

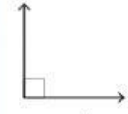

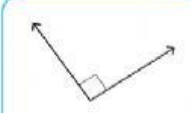
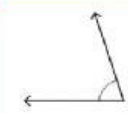


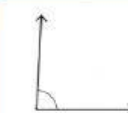




ชื่อ..... ชั้น ป..... เลขที่.....

แบบฝึกหัดที่ 23 เรื่องจำแนกชนิดของมุม

จงจำแนกชื่อมุมโดยเลือกเขียนพยัญชนะใต้ภาพ (ก , ข , ค , ง , จ , ฉ , ช , น , พ) ลงในช่องว่าง ให้ถูกต้อง

 รูป ก	 รูป ข	 รูป ค
 รูป ง	 รูป จ	 รูป ฉ
 รูป ช	 รูป น	 รูป พ

มุมฉาก ได้แก่	<input type="checkbox"/>	<input type="checkbox"/>	
มุมแหลม ได้แก่	<input type="checkbox"/>	<input type="checkbox"/>	<input type="checkbox"/>
มุมป้าน ได้แก่	<input type="checkbox"/>	<input type="checkbox"/>	
มุมตรง ได้แก่	<input type="checkbox"/>		
มุมกลับ ได้แก่	<input type="checkbox"/>		