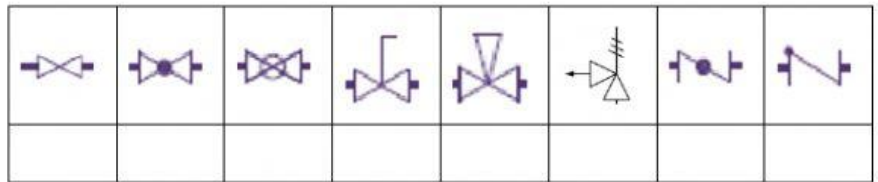


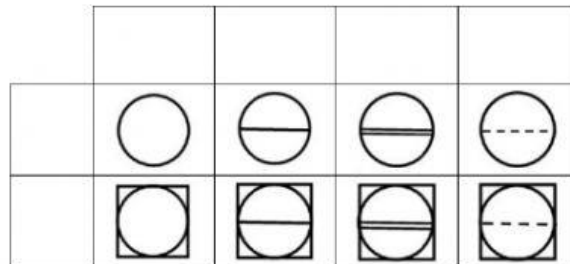
1. Rellena con números los símbolos siguientes.

1. Mariposa.
2. Bola.
3. Compuerta.
4. Globo.
5. Antirretorno.
6. Seguridad.
7. Aguja.
8. Macho.



2. Rellena con letras los símbolos siguientes.

- A. Montaje local en campo.
- B. Inaccesible o escondido.
- C. gráficos o lectura en pantalla u ordenador.
- D. En panel principal de control.
- E. Instrumento o dispositivo.
- F. En panel local.

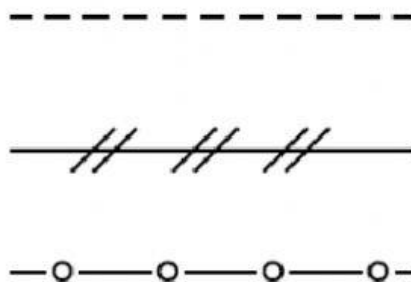


3. Coloca los tipos de línea

CONEXIONADO POR SOFTWARE

LINEA DE SEÑAL ELECTRICA DE INSTRUMENTOS

LINEA DE SEÑAL NEUMATICA DE INSTRUMENTOS



4. Identifica los símbolos de elementos del lazo de control uniendo con flechas:

CONTROLADOR/INDICADOR	ELEMENTO FINAL DE CONTROL	ELEMENTO PRIMARIO	TRANSMISOR ELECTRICO
-----------------------	---------------------------	-------------------	----------------------

