



Thứ Hai, ngày 22 tháng 11 năm 2021



Toán

Luyện tập
(trang 55-56)



Tên:



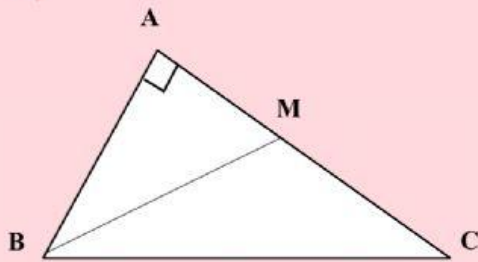
Thứ Hai ngày 22 tháng 11 năm 2021

Toán

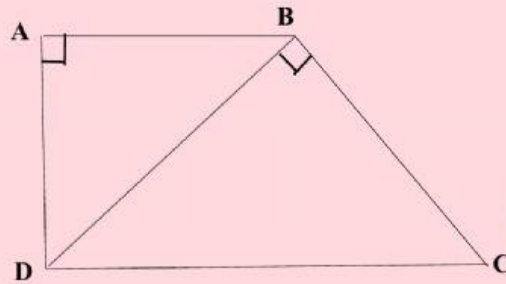
Luyện tập

Bài 1: Nêu các góc vuông, góc nhọn, góc tù, góc bẹt có trong mỗi hình:

a)



b)





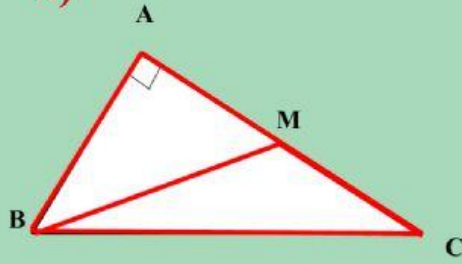
Bài 1: Nêu các góc vuông, góc nhọn, góc tù, góc bẹt có trong mỗi hình:



.....
.....
.....
.....
.....
.....
.....
.....
.....
.....

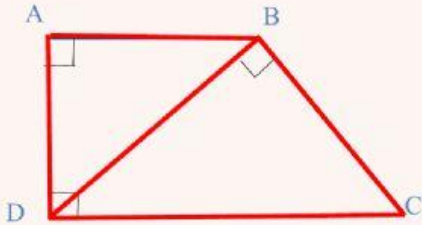


a)



Bài 1: Nêu các góc vuông, góc nhọn, góc tù, góc bẹt có trong mỗi hình:

b)



.....

.....

.....

.....

.....

.....

.....



Thứ Hai, ngày 22 tháng 11 năm 2021

Toán
Luyện tập



Bài 2: Đúng ghi Đ, sai ghi S vào ô trống:

- AH là đường cao của hình tam giác ABC

- AB là đường cao của hình tam giác ABC

