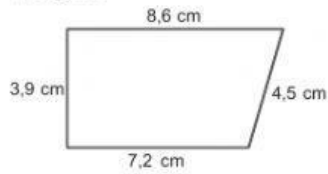


# 11 IRUDI LAUAK. AZALERA 2

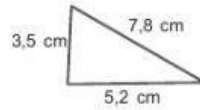
Adierazi zenbat diagonal dituen poligono bakoitzak eta kalkulatu perimetroa.

A poligonoa



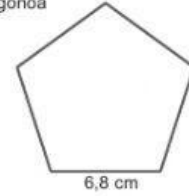
Perimetroa:

B poligonoa



Perimetroa:

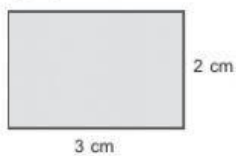
C poligonoa



Perimetroa:

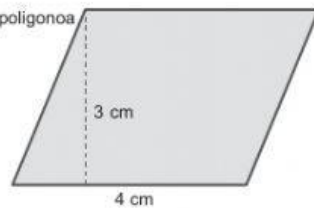
Kalkulatu irudi bakoitzaren azalera.

A poligonoa



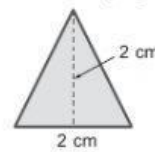
Azalera:

B poligonoa



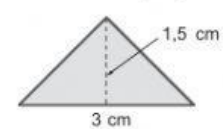
Azalera:

C poligonoa



Azalera:

D poligonoa



Azalera:

Tereseren aitak hexagono-formako beira-zati bat jarri behar du jangelako mahaian. Aldearen luzera 50 cm da, eta apotema, 40 cm. Zenbatekoa da beira-zatiaren azalera?

Ebazpena: