



EVALUACIÓN SUMATIVA UNIDAD 7

Nombre: _____ Fecha: ____/11/21

Puntaje Ideal: 26 puntos.

Selecciona con un clic la única alternativa correcta. (11 puntos)

1. ¿Qué número es $3C + 5U$?

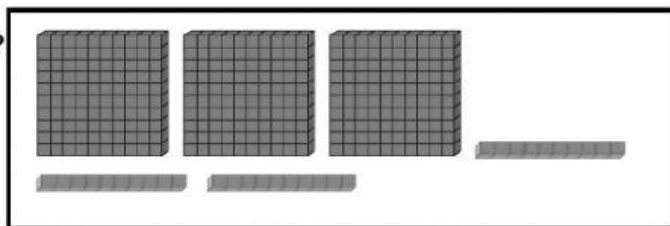
- A. ☐ 350
- B. ☐ 305
- C. ☐ 503

2. ¿Cuál es un número menor que 607?

- A. ☐ 670
- B. ☐ 706
- C. ☐ 605

3. ¿Cuál es el número representado?

- A. ☐ 33
- B. ☐ 303
- C. ☐ 330



4. ¿Cuál de los siguientes números es mayor que 77?

- A. ☐ 87
- B. ☐ 57
- C. ☐ 67

5. Dos posibles descomposiciones del número 574 son

- | | | |
|--------------------------|-----------------|----------------|
| A. <input type="radio"/> | $500 + 70 + 40$ | $500 + 70 + 4$ |
| B. <input type="radio"/> | $400 + 170 + 4$ | $500 + 70 + 4$ |
| C. <input type="radio"/> | $30 + 70 + 4$ | $400 + 70 + 4$ |

6. Una posible descomposición del número 830 es

- A. ☐ $8C + 3D$
- B. ☐ $8D + 3U$
- C. ☐ $8C + 3D + 1U$

7. Agustín ahorró \$ 570. Si su mamá le regala \$ 200, ¿cuánto tendrá?

- A. ☐ \$ 590
- B. ☐ \$ 770
- C. ☐ \$ 572

8. ¿Cuál es el número representado?

- A. ☐ 751
- B. ☐ 571
- C. ☐ 715



9. La suma de los dígitos de un número de 3 cifras es 9. El dígito de la Unidad es 4 y el de la Centena es menor que la Decena. ¿Qué número soy?

- A. ☐ 234
- B. ☐ 432
- C. ☐ 324

10. ¿Cuál es el resultado de $784 - 251$?

- A. ☐ 530
- B. ☐ 533
- C. ☐ 653

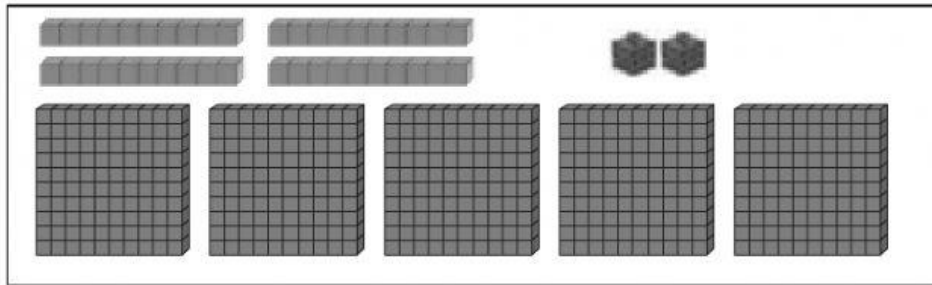
11. ¿Cuál es el signo que debe ir en el ?

- A. ☐ $<$
- B. ☐ $>$
- C. ☐ $=$

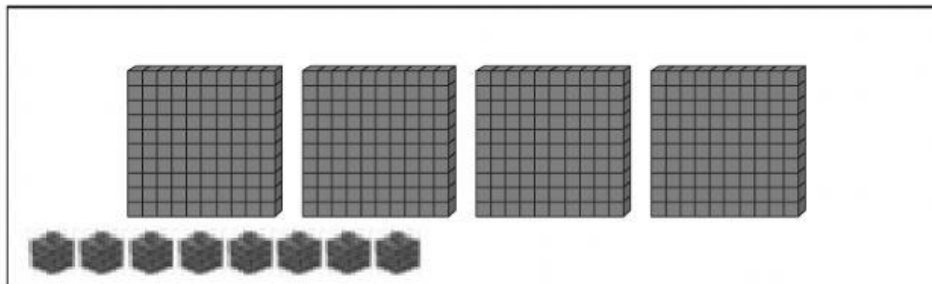
862	<input type="text"/>	826
-----	----------------------	-----

12. Escríbelo en cifras y en palabras cada número representado. (6 puntos)

a)



b)



13. Resuelve en el recuadro y escribe la respuesta completa. (9 puntos)

a) En el colegio de María Jesús hay 947 alumnos en total. Si 425 son damas, ¿cuántos son varones?

Respuesta: _____

- b) Francisca está ahorrando para comprarse un álbum. Si tiene \$ 450 y necesita \$ 879 para comprarse el álbum, *¿cuánto le falta aún?*

Respuesta: _____

- c) Al parque asistieron 445 personas el sábado y 523 el domingo. *¿Cuántas personas asistieron el fin de semana al parque?*

Respuesta: _____