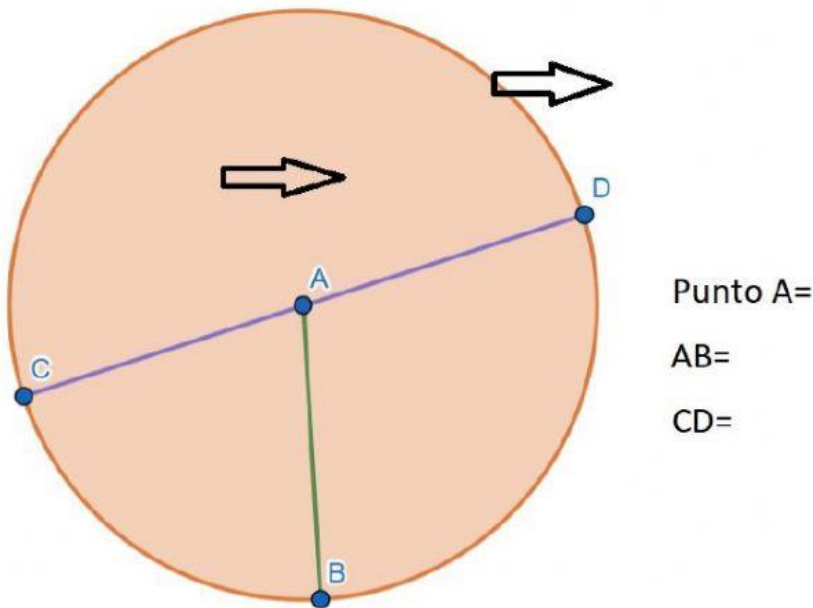


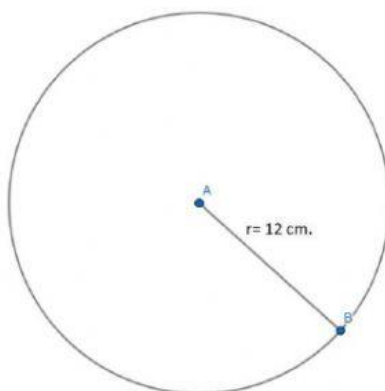


Ejercicios de un área y perímetro de una circunferencia

1.- Selecciona el nombre de las partes de una circunferencia.

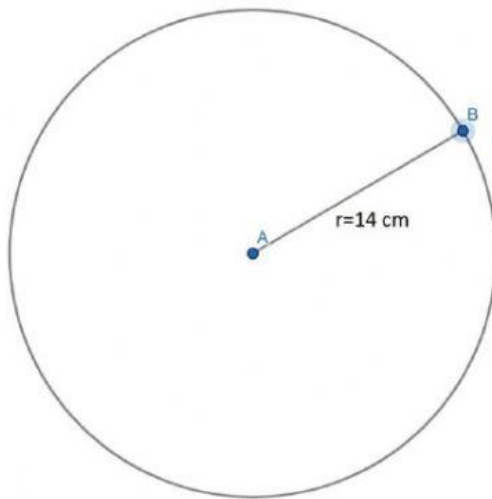


2.- Encuentra los valores del área y el perímetro de las siguientes figuras:



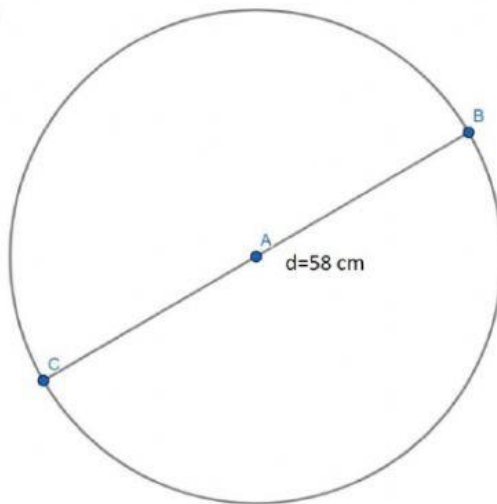
Área: cm^2

Perímetro: cm



Área: cm^2

Perímetro: cm



Área: cm^2

Perímetro: cm

3.- Si el perímetro de una circunferencia es de $48\pi\text{ cm}$. ¿Cuánto mide su radio?

Radio= cm .

4.- Si el perímetro de una circunferencia es de $16\pi\text{ cm}$. ¿Cuánto mide su área?

Área= cm .