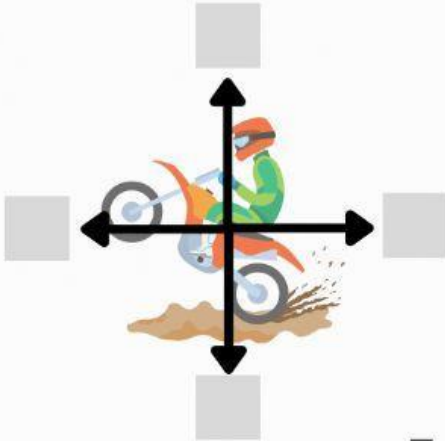


AI. REPRESENTACIÓN DE FUERZAS

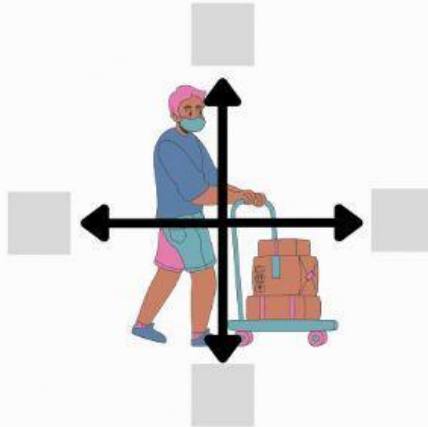
Nombre: _____

Grupo: _____

● Identifica en cada ejemplo los tipos de fuerzas que aparecen representadas.



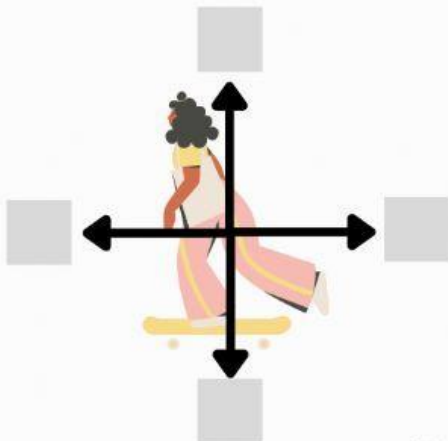
Fuerza del movimiento: F
Peso: P
Fuerza normal: N
Fuerza de fricción: Fr



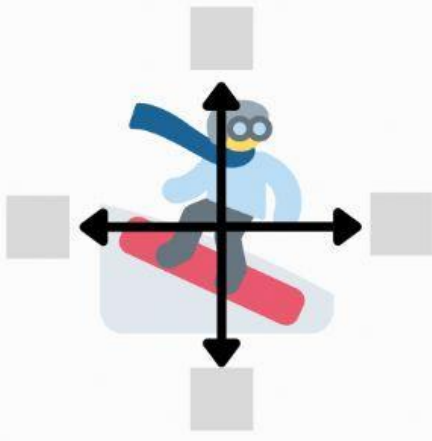
Fuerza del movimiento: F
Peso: P
Fuerza normal: N
Fuerza de fricción: Fr




Fuerza del movimiento: F
Peso: P
Fuerza normal: N
Fuerza de fricción: Fr



Fuerza del movimiento: F
Peso: P
Fuerza normal: N
Fuerza de fricción: Fr



Fuerza del movimiento: F
Peso: P
Fuerza normal: N
Fuerza de fricción: Fr



Fuerza del movimiento: F
Peso: P
Fuerza normal: N
Fuerza de fricción: Fr