

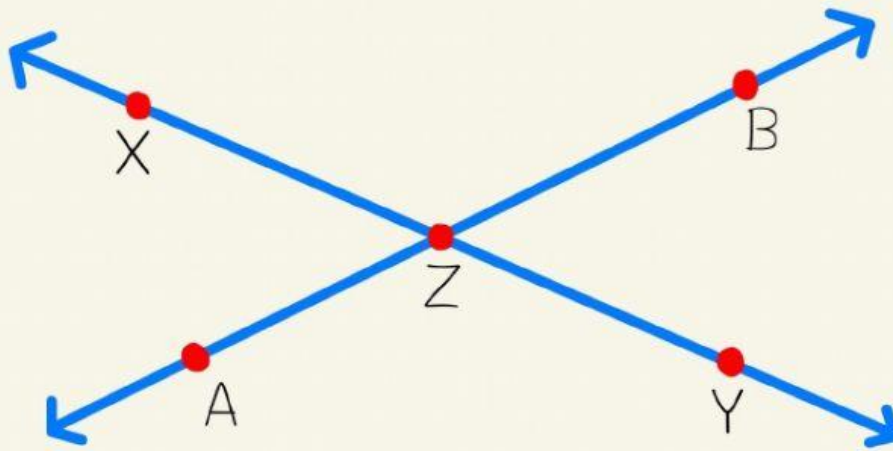
## ใบงานวิชาคณิตศาสตร์พื้นฐาน (ค 21102) ชั้นมัธยมศึกษาปีที่ 1

### หน่วยการเรียนรู้ที่ 2 เรื่อง การสร้างทางเรขาคณิต

#### ใบงานที่ 1

เรื่อง จุด เส้นตรง ส่วนของเส้นตรง รังสี และมุม

คำชี้แจง : จงตอบคำถามต่อไปนี้



กำหนดให้  $\overleftrightarrow{AB}$  และ  $\overleftrightarrow{XY}$  ตัดกันที่จุด Z ดังรูป

จงบอกชื่อมุมที่มีจุด Z เป็นจุดยอดมุม พร้อมทั้งเขียนแขนมุม

- |                       |     |        |     |        |               |
|-----------------------|-----|--------|-----|--------|---------------|
| ..... $\hat{Z}$ ..... | มุม | —————> | และ | —————> | เป็นแขนของมุม |
| ..... $\hat{Z}$ ..... | มุม | —————> | และ | —————> | เป็นแขนของมุม |
| ..... $\hat{Z}$ ..... | มุม | —————> | และ | —————> | เป็นแขนของมุม |
| ..... $\hat{Z}$ ..... | มุม | —————> | และ | —————> | เป็นแขนของมุม |

ชื่อ.....นามสกุล.....ชั้น ม.1/.....เลขที่.....

## ใบงานวิชาคณิตศาสตร์พื้นฐาน (ค 21102) ชั้นมัธยมศึกษาปีที่ 1

### หน่วยการเรียนรู้ที่ 2 เรื่อง การสร้างทางเรขาคณิต

#### ใบงานที่ 1

เรื่อง จุด เส้นตรง ส่วนของเส้นตรง รัศมี และมุม

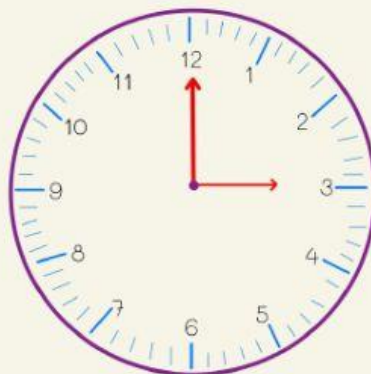
คำชี้แจง : จงตอบคำถามต่อไปนี้

จงบอกขนาดของมุมที่เกิดจากเข็มสั้นและเข็มนาฬิกาบนหน้าปัดนาฬิกาในเวลาต่อไปนี้




01.00 น.

.....องศา




03.00 น.

.....องศา



04.00 น.

.....องศา




06.00 น.

.....องศา



12.00 น.

.....องศา



14.00 น.

.....องศา

ชื่อ.....นามสกุล.....ชั้น ม.1/.....เลขที่.....