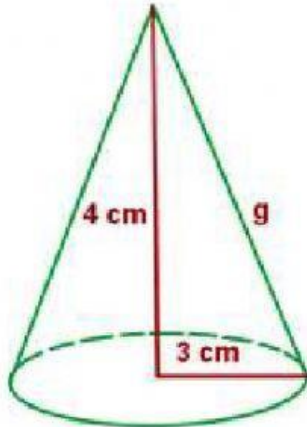
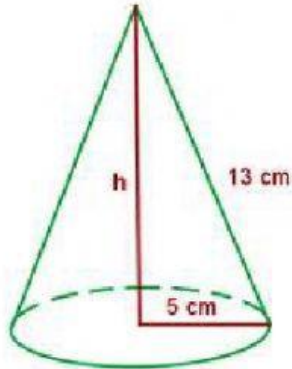


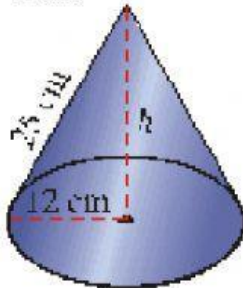
1. Calcula el volumen de un cono cuya altura mide 4 cm y el radio de la base es de 3 cm.



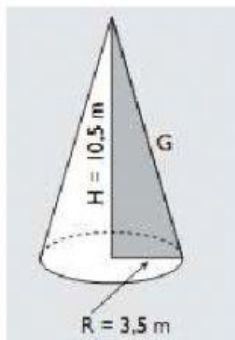
2. Calcula el volumen de un cono cuya generatriz mide 13 cm y el radio de la base es de 5 cm.



3. Calcula el volumen de un cono cuya generatriz mide 25 cm y el radio de su base es de 12 cm.



4. Calcula el volumen de un cono recto en el que el radio de la base mide 3,5 m y la altura es el triple de dicho radio.



5. Determina el volumen de un cono recto en el que el diámetro de la base es igual a la altura que mide 10 m.

