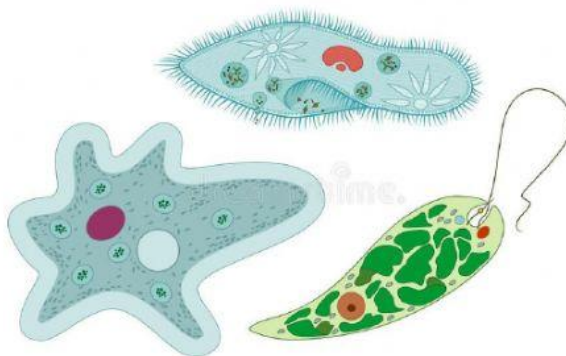
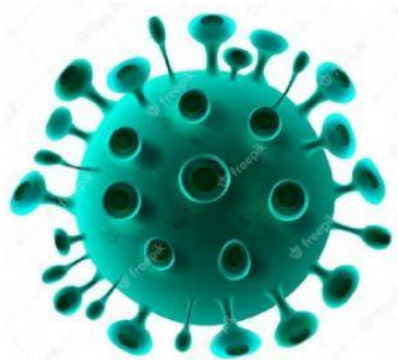
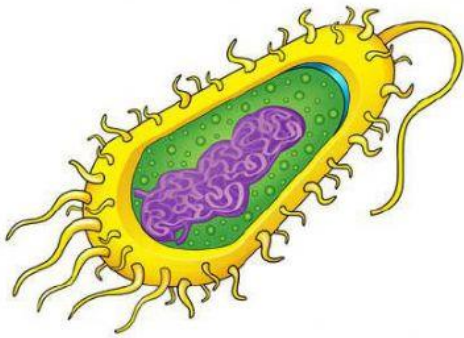


ACTIVIDAD

1. Coloque debajo de cada imagen el nombre que corresponde a cada tipo de microorganismo:



2. Marque (F) si el enunciado es **FALSO** y (V) si es **VERDADERO**:

Todos los microorganismos son pluricelulares.

☐

Los virus solo pueden reproducirse en una célula huésped.

☐

Los protozoarios depredan a otros microorganismos a la hora de alimentarse.

☐

Todos los virus, bacterias, protozoos y algas pueden verse físicamente a simple vista.

☐