

Clave





Am = Amarillo = 100 (Centena)

R = Rojo = 10 (1Decena)

Az = Azul = 1 (Unidad)

ACTIVIDADES

1. Cuente las fichas y escribe cuánto tiene cada niño. ¿Quién tiene más valor en sus fichas? _____



2.- Escribe en cada recuadro el número que indica en la etiqueta



3.-Contesta la siguiente tabla, observa el ejemplo:

Número	Cifra de la Centena	Cifra de la Decena	Cifra de la Unidad
426	4 C	2 D	6 U
589			
362			
614			
892			
233			
98			

4. Observa y Completa. Como indica el ejemplo

