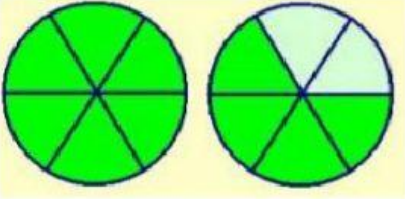




## EXAMEN DE MATEMÁTICAS 4TO. "A" PRIMER TRIMESTRE

1. Escribe en el recuadro de la derecha, el número mixto y fracción impropia que está representada en cada una de las siguientes cuadrículas:

a)		Número Mixto	Fracción Impropia
		<div style="border: 1px solid black; width: 60px; height: 60px; position: relative;"><div style="position: absolute; left: 50%; top: 50%; transform: translate(-50%, -50%); width: 100%; height: 100%; border: 1px solid black;"></div></div>	<div style="border: 1px solid black; width: 60px; height: 60px; position: relative;"><div style="position: absolute; left: 50%; top: 50%; transform: translate(-50%, -50%); width: 100%; height: 100%; border: 1px solid black;"></div></div>
b)			
c)			

2. Compón o descompón el número según sea el caso. escribiendo los números en los recuadros

<b>6 5 3 8</b>	→	<table border="1" style="width: 100%; border-collapse: collapse;"> <tr> <td style="width: 25%; text-align: center;">UM</td> <td style="width: 25%; text-align: center;">C</td> <td style="width: 25%; text-align: center;">D</td> <td style="width: 25%; text-align: center;">U</td> </tr> </table>	UM	C	D	U
UM	C	D	U			
<b>7 8 2 1</b>	→	<table border="1" style="width: 100%; border-collapse: collapse;"> <tr> <td style="width: 25%; text-align: center;">UM</td> <td style="width: 25%; text-align: center;">C</td> <td style="width: 25%; text-align: center;">D</td> <td style="width: 25%; text-align: center;">U</td> </tr> </table>	UM	C	D	U
UM	C	D	U			

	<b>5000 + 300 + 40 + 7</b>
	<b>1000 + 900 + 50 + 2</b>

## EXAMEN DE MATEMÁTICAS 4TO. "A" PRIMER TRIMESTRE

3. Arrastra el cuadro según corresponda

$\frac{7}{10}$

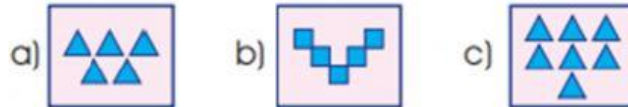
$\frac{1}{100}$

$\frac{148}{1000}$

Decimal	Fracción
0.7	
	$\frac{45}{10}$
0.01	
0.148	
	$\frac{8}{10}$

## EXAMEN DE MATEMÁTICAS 4TO. "A" PRIMER TRIMESTRE

¿Cuál figura completa correctamente la sucesión?



OBSERVA Y RESPONDE



María compro un lápiz, dos mochilas y 3 sacapuntas. ¿Cuánto pago?

\$153.6

\$153.5

\$153.7

## EXAMEN DE MATEMÁTICAS 4TO. "A" PRIMER TRIMESTRE

¿Cómo se lee la siguiente cantidad? 8,645

ocho millones  
seiscientos  
cuarenta y  
cinco

ocho mil  
seiscientos  
cuarenta y  
cinco

ochocientos  
sesenta y  
cuatro mil  
cinco

Si Josué gana \$1,000 en el día y Kevin gana \$2,300 en ese mismo día, ¿Cuánto ganaron en total?

\$3,300

\$1,300

\$2,400

¿Cómo se forma el número 3482?

$(3 \times 1000) + 4000 +$   
 $20 + 8$

$300 + (4 \times 100) +$   
 $2 + 80$

$3 \times 1000 + 400 +$   
 $(2 \times 40) + 2$

Completa la siguiente sucesión escribiendo en los recuadros los números que faltan

2, 4, 7, 8, 12, 12, 17, 16, 22, 20, 27,

## EXAMEN DE MATEMÁTICAS 4TO. "A" PRIMER TRIMESTRE

Si todos los miembros de la familia se despiertan a la hora del reloj, ¿Quién tarda más en salir de la casa?

Marca la respuesta correcta



- ☐ Paty 9:05
- ☐ Esmeralda nueve y cuarto
- ☐ Perla nueve en punto