

**EVALUACIÓN DEL PRIMER PARCIAL
SEGUNDO QUIMESTRE**

DOCENTE:	BORBOR ARMENDÁRIZ MELANY NOEMÍ	NOMBRE DEL ESTUDIANTE:	
GRADO/CURSO:	GRADO 5	CALIFICACIÓN:	
ASIGNATURA:	CIENCIAS NATURALES	FECHA:	

Instrucciones

- 1.- El tiempo estimado para el desarrollo de la evaluación es de 35 minutos.
- 2.- La evaluación es individual y es para valorar sus conocimientos, por lo tanto, se prohíbe realizar consultas en internet o en el material de clases, durante el tiempo de la evaluación.
- 3.- Analice cada tema antes de contestar.

ÍTEM DE DOBLE ALTERNATIVA

2 PUNTO

1. ESCRIBA V SI ES VERDADERO Y F SI ES FALSO

ENUNCIADOS	VERDADERO	FALSO
En el Ecuador se legalizó la práctica de la medicina ancestral en el año 2006	<input type="checkbox"/>	<input type="checkbox"/>
La medicina ancestral no se mantiene hasta la actualidad	<input type="checkbox"/>	<input type="checkbox"/>
La cosmovisión indígena asegura que la <i>Pachamama</i> es la que nos enferma	<input type="checkbox"/>	<input type="checkbox"/>
La cosmovisión indígena asegura que la <i>Pachamama</i> es la que nos cura	<input type="checkbox"/>	<input type="checkbox"/>
La medicina ancestral está apegada a los hallazgos científicos	<input type="checkbox"/>	<input type="checkbox"/>
Los electrones poseen carga positiva	<input type="checkbox"/>	<input type="checkbox"/>
Los protones poseen carga negativa	<input type="checkbox"/>	<input type="checkbox"/>
Los estados de la materia son sólido, líquido y gaseoso	<input type="checkbox"/>	<input type="checkbox"/>
Un cubo de hielo se encuentra en estado gaseoso	<input type="checkbox"/>	<input type="checkbox"/>
El modelo Rutherford es conocido como modelo interplanetario	<input type="checkbox"/>	<input type="checkbox"/>

ÍTEM DE IDENTIFICACIÓN

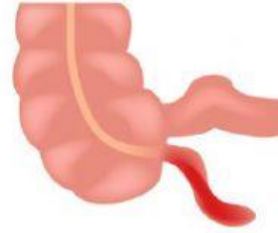
2 PUNTOS

2. SELECCIONA LA IMAGEN CORRECTA

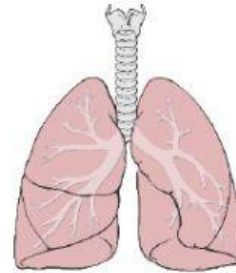
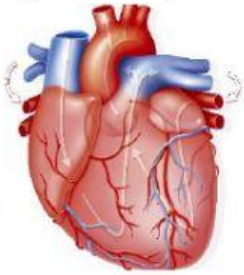
a) Seleccione la imagen que represente las caries:



b) Seleccione la imagen que represente la gripe:




c) La gastritis es producido por el exceso de jugos gástricos en:



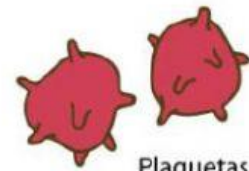
c) Anemia es la disminución de:



Glóbulos rojos

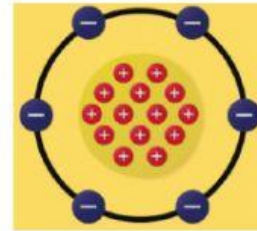
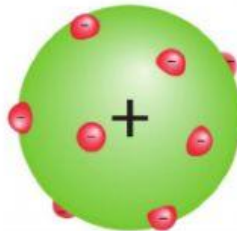


Glóbulos blancos

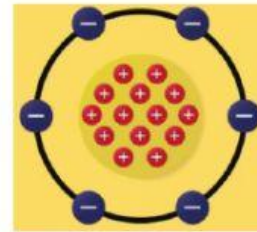
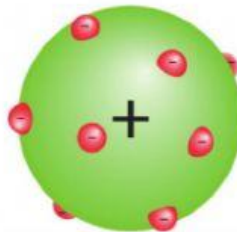


Plaquetas

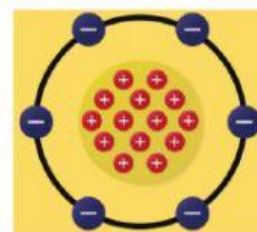
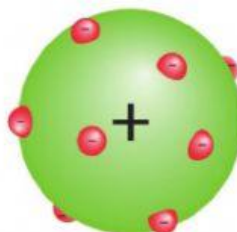
d) Seleccione el modelo atómico de DALTON:



e) Seleccione el modelo atómico de RUTHERFORD:



f) Seleccione el modelo atómico de THOMSON:



g) Seleccione la imagen que represente el estado SÓLIDO:



h) Seleccione la imagen que represente el estado LÍQUIDO:



ÍTEM DE COMPLETAMIENTO

2 PUNTOS

3. COMPLETA LAS SIGUIENTES FRASES CON LAS PALABRAS DEL RECUADRO

Sentidos

Átomo

Espacio

Apéndice

Núcleo

Presión Sanguínea

Amigdalitis

Nube electrónica

a) El _____ es un pequeño tubo cilíndrico.

b) _____ es la inflamación de las amígdalas por infección bacteriana o viral.

c) Un _____ es la partícula más pequeña que conserva las características físicas y químicas de un determinado elemento químico.

d) Materia es todo lo que ocupa un lugar en el _____.

e) La hipertensión es la elevación continua de la _____.

f) Las propiedades organolépticas se perciben con los _____.

g) El _____ es la parte central del átomo que contiene a los neutrones y protones

h) La _____ es la parte externa del átomo que rodea al núcleo y contiene a los electrones.

ÍTEM DE RELACIÓN DE CORRESPONDENCIA

2 PUNTOS

4. COLOCA EL NÚMERO DE LA COLUMNA A EN EL ESPACIO DE LA COLUMNA B;
SEGÚN CORRESPONDA:

a) PROPIEDADES FÍSICAS

1

Densidad

2

Punto de fusión

3

Elasticidad

4

Punto de ebullición

5

Ductibilidad

b) CARACTERÍSTICAS

Relación entre la masa de un cuerpo y su volumen

Los cuerpos sólidos recuperan su forma original

Las sustancias cambian de estado líquido a gaseoso

Las sustancias cambian de estado sólido a líquido

Los materiales se convierten en hilos o alambres

5. COLOCA EL NÚMERO DE LA COLUMNA A EN EL ESPACIO DE LA COLUMNA B;
SEGÚN CORRESPONDA:

a) MODELOS ATÓMICOS

1

Modelo de Dalton

2

Modelo de Thomson

3

Modelo de Rutherford

b) CARACTERÍSTICAS

Creado en 1904.

Creado en 1807.

Creado en 1911.

ÍTEM DE ELECCIÓN DE ELEMENTOS

2 PUNTOS

6. LEE LOS ENUNCIADOS Y ESCOGE DOS OPCIONES CORRECTAS EN CADA LITERAL

A) Las enfermedades, para los pueblos originarios, pueden ser ocasionadas por:

Fuerzas energéticas
negativas

Espíritus de
familiares fallecidos

Desequilibrio interno

B) Las fuerzas energéticas negativas atraviesan:

La mente

El alma

El cuerpo

C) Dos elementos de la Pachamama son:

Agua

Vidrio

Fuego

D) La materia se clasifica en:

Sustancias
impuras

Sustancias
puras

Sustancias
Mezcladas

E) Dureza es la resistencia que tiene cada sustancia para ser:

Ensuciada

Rayada

Partida

F) Los síntomas de apendicitis son:

El apéndice se
inflama

El apéndice se
llena de pus

El apéndice
disminuye su tamaño

G) Los síntomas de cálculos vesiculares son:

Cristalización de
la bilis

Piedritas tapan el
conducto biliar

Cristalización de
los intestinos

H) Los síntomas de leucemia son:

Disminución de
glóbulos rojos

Aumento de
glóbulos blancos

Disminución de los
glóbulos blancos

DOCENTE Prof. Borbor Armendáriz Melany	COMISIÓN PEDAGÓGICA Ing. Yuliana Clemente P.	DIRECTOR Ing. Gabriel Medina D.