

Nama:

Kelas:

LKPD

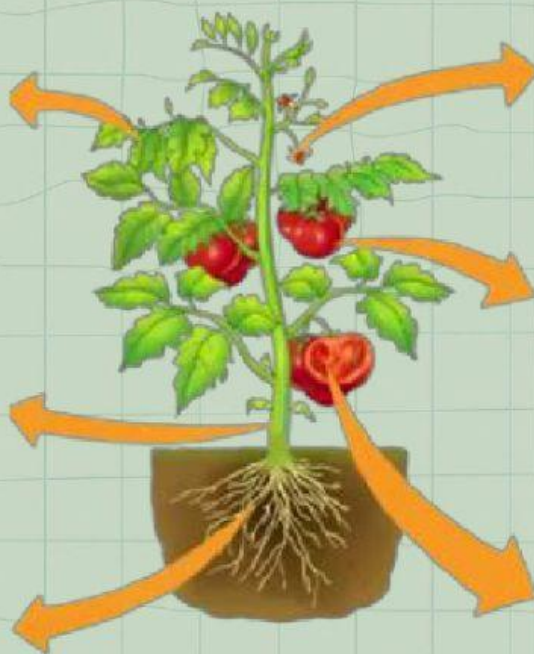
Bagian-bagian Tumbuhan

Tumbuhan merupakan salah satu makhluk hidup yang tidak melakukan aktifitas bergerak, seperti manusia dan hewan.

Bagian-bagian tumbuhan yang pasti ada adalah akar, batang, dan daun.

Namun tidak semua tumbuhan memiliki bunga dan biji.

Jodohkan dengan cara menyeret label bagian-bagian tumbuhan di sebelah kanan pada tanda panah yang tepat



Bunga


Akar

Biji

Batang

Daun

Buah



A. Prosedur Kerja

1. Amatilah tanaman yang telah kalian siapkan, baik bagian akar, batang, daun, bunga dan biji.
 - a) Pada bagian akar, amatilah apakah akar tanaman berupa serabut atau tunggang
 - b) Pada bagian batang, amatilah apakah batang tanaman berupa batang berkayu atau batang lunak
 - c) Pada bagian daun, amatilah pola daun apakah merupakan menyirip, menjari, melengkung, atau sejajar
 - d) Pada bagian bunga, amatilah apakah bunga pada tanaman tersebut merupakan bunga sempurna atau bunga tidak sempurna
2. Tuliskan hasil pengamatan kalian ke dalam tabel pengamatan

B. Prosedur Kerja

No	Nama Tanaman	Bagian yang diamati			
		Akar	Batang	Daun	Bunga
1.	Padi				
2.	Mangga				
3.	Teratai				
4.	Papaya				
5.	Jambu				



Hubungkan dengan garis antara nama bagian tumbuhan dan fungsinya yang tepat



Daun



Penyerapan Air Dan Zat Hara



Batang




Alat Berkembangbiak



Akar



Tempat Melindungi Biji



Bunga



Tempat Terjadinya Fotosintesis



Buah



Alat Transportasi



Selamat Mengerjakan

