

EVALUACIÓN DE MATEMÁTICA

DOCENTES	Verónica Oróstica L. – Raquel Godoy R.	UNIDAD	N° 3
EVALUACIÓN	N° 2	NIVEL	1° B -C
OBJETIVOS APRENDIZAJE	<p>DE</p> <p>OA19: Recolectar y registrar datos para responder preguntas estadísticas sobre sí mismo y el entorno, usando bloques, tablas de conteo y pictogramas.</p> <p>OA18: Identificar y comparar la longitud de objetos, usando palabras como largo y corto.</p>	FECHA	NOVIEMBRE 2021
		29 PTS.	


INSTRUCCIONES

- ✦ Antes de realizar la evaluación debes escuchar atentamente las instrucciones.
- ✦ Abre cuadernillo de Ciencia en página interactiva [liveworksheets](#).
- ✦ Desarrolla las actividades propuestas, si tienes alguna duda consulta a tu profesora.




1.- Mide cada objeto usando clips, luego anota la respuesta en el recuadro. (3 pts.)

a




clips

b



clips

c



clips

2.- Mide cada cinta utilizando la regla, luego anota la respuesta en el recuadro. (3 pts.)

a



cm 1 2 3 4 5 6 7 8 9 10 11 12 13 14 15 16 17 18

Respuesta


b



cm 1 2 3 4 5 6 7 8 9 10 11 12 13 14 15 16 17 18

Respuesta

c




cm 1 2 3 4 5 6 7 8 9 10 11 12 13 14 15 16 17 18


Respuesta

3.- En cada recuadro escribe los números del 1 al 3, empezando por el más corto. (4 pts.)


a) Más corto.








b) Más largo.



4.- Cuenta, completa y responde. (13 pts.)



Insecto	Conteo	Total
		
		
		
		
		

a) ¿Cuál insecto se repite más?



b) ¿Cuál insecto se repite menos?



c) ¿Cuántos insectos hay en total?


29

27

25

5.- Observa la tabla y completa el gráfico de barras pintando según información de la tabla. Luego responde.
(6 pts.)

mascota	votos
Gato	4
Perro	3
Hámster	1
pez	2



a) ¿Qué título le pondrías al gráfico?

Frutas

Mascotas

Juegos

b) ¿Cuántos niños prefieren de mascota un perro?

