

I. Selecciona los objetos que pesan más de 1 kilogramo




II. Selecciona los objetos que pesan menos de 1 kilogramo



III. Observa la balanza y escribe el nombre de la fruta más pesada hasta la más liviana

Comparaciones entre medidas



Ordena del más pesado al más liviano

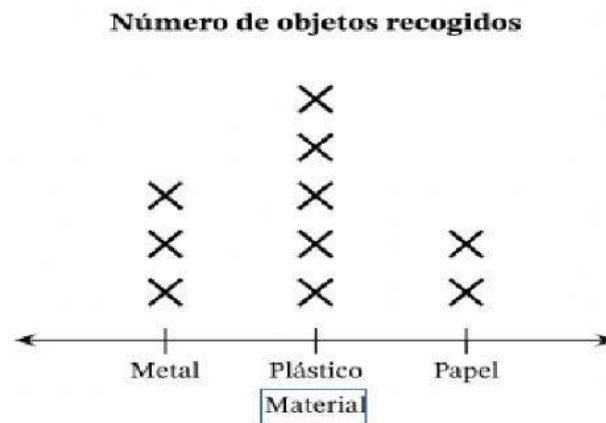
1.

2.

3.

IV. Diagrama de puntos, gráficos y pictogramas

Observa el diagrama de puntos y responde las preguntas



¿Cuál es el título del diagrama? _____

¿Cuál es el objeto más recogido?

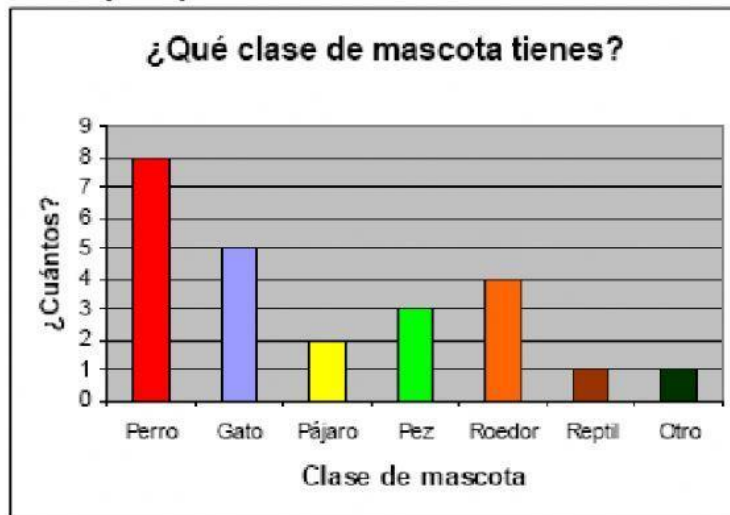
¿Cuál es el objeto menos recogido?

¿Cuántos objetos se recogieron en total?

¿Cuántos objetos de metal y papel se recogieron?

¿Cuál es la diferencia entre el número de objetos de metal y papel?

Observa el Gráfico y responde



¿Cuál es el título del gráfico? R _____

¿Cuál es la mayor frecuencia (la mascota que más se repite)?

PERRO Gato Pájaro Otro Reptil Roedor Pez

¿Cuáles son las dos mascotas más preferidas?

PERRO Gato Pájaro Otro Reptil Roedor Pez

¿Cuáles son las 2 mascotas menos preferidas?

PERRO Gato Pájaro Otro Reptil Roedor Pez