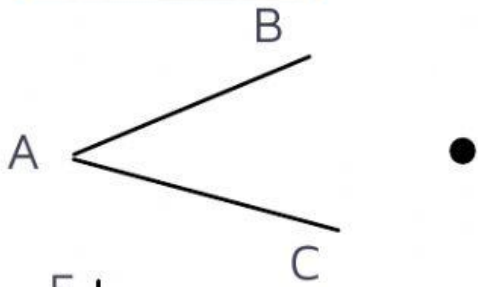


BÀI TẬP TỰ LUYỆN

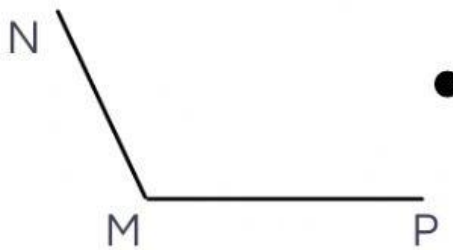
Bài 1: Nối



Góc tù



Góc nhọn



Góc vuông



Góc bẹt

Bài 2: Trong các hình tam giác sau, hình nào có:

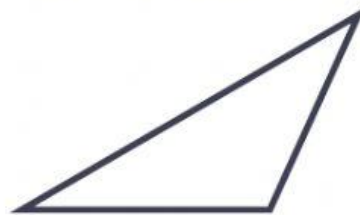
a. Hình nào có ba góc nhọn. Khoanh tròn trước câu trả lời đúng:



A



B



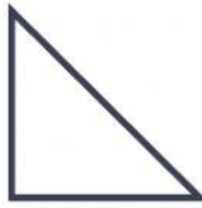
C

Bài 3: Trong các hình tam giác sau, hình nào có:

a. Hình nào có góc vuông. Khoanh tròn trước câu trả lời đúng:



A



B



C

Bài 4: Trong các hình tam giác sau, hình nào có:

a. Hình nào có góc tù. Khoanh tròn trước câu trả lời đúng:



A



B



C

Bài 5: Điền số còn thiếu vào chỗ trống:

Có góc tù

Có góc vuông

Có góc nhọn

