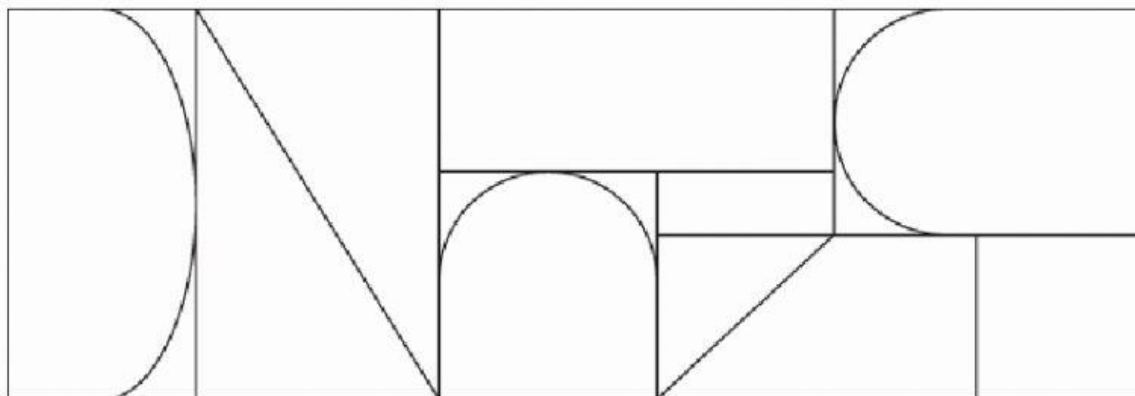


# POLÍGONOS

Nome \_\_\_\_\_ Data: \_\_\_\_/\_\_\_\_/\_\_\_\_

1. Pinta, de diferentes cores, apenas as figuras planas poligonais.

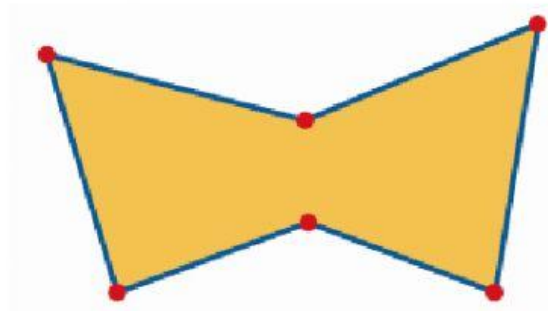


2. Observa o polígono desenhado.

2.1. Este polígono tem...

Lados: ☐ 4 ☐ 5 ☐ 6

Vértices: ☐ 4 ☐ 5 ☐ 6



2.2. Completa a afirmação:

Um **polígono** é uma figura \_\_\_\_\_ formada por uma linha \_\_\_\_\_ fechada e a parte \_\_\_\_\_ por ela limitada.

3. Escreve quantos lados e vértices tem cada polígono e identifica-os.



\_\_\_\_\_ lados

\_\_\_\_\_ vértices

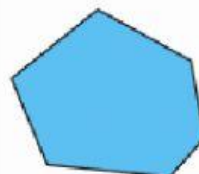
É um \_\_\_\_\_.



\_\_\_\_\_ lados

\_\_\_\_\_ vértices

É um \_\_\_\_\_.



\_\_\_\_\_ lados

\_\_\_\_\_ vértices

É um \_\_\_\_\_.