



ชื่อ-นามสกุล..... ชั้น..... เลขที่.....

ให้น้องๆ ช่วยนับจำนวนจักรยานที่ขึ้นทางซ้าย และ ทางขวา ว่ามีจำนวนกี่คัน เขียนคำตอบให้ถูกต้อง




ชื่อ-นามสกุล..... ชั้น..... เลขที่.....







ใหน้องๆ ช่วยนับจำนวนปลาที่หันหน้าทางซ้าย และ ทางขวา ว่ามีจำนวนกี่ตัว เขียนคำตอบใหน้ถูกต้อง



LEFT



RIGHT



ชื่อ-นามสกุล..... ชั้น..... เลขที่.....

ใ้พี่น้องๆ ช่วยนับจำนวนแม่เห็ที่หันหน้าทางซ้าย และ ทางขวา ว่ามีจำนวนกี่ตัว เขียนคำตอบใ้ถูกต้อง

← LEFT → RIGHT

Row 1: 1 hedgehog (left), 1 hedgehog (right)

Row 2: 4 hedgehogs (left)

Row 3: 5 hedgehogs (left)


Row 4: 5 hedgehogs (left)

ชื่อ-นามสกุล

ชั้น

เลขที่

ให้เพื่อนๆ ช่วยนับจำนวนรถที่หันไปทางซ้าย และ ทางขวา ว่ามีจำนวนกี่คัน เขียนคำตอบให้ถูกต้อง



LEFT



RIGHT



ชื่อ-นามสกุล

ชั้น

เลขที่

ใช้ไม้จิ้มฟันช่วยนับจำนวนนกที่หันหน้าทางซ้าย และ ทางขวา ว่ามีจำนวนกี่ตัว เขียนคำตอบให้ถูกต้อง

