





PHÉP CỘNG TRONG PHẠM VI 100

Bài 1. Mỗi chú gà đã che mất số nào?

$23 + 7 =$ 
 $54 + 8 =$ 
 $33 + 9 =$ 
 $27 + 6 =$ 

 =
  =
  =
  =

Bài 2. Điền số thích hợp vào ô trống.

Bài 3. Ben vừa phủ kem lên tất cả những chiếc bánh vừa ra lò. Bạn ấy đặt dâu lên 16 chiếc bánh, đặt cherry lên 17 chiếc bánh và có 8 chiếc bánh không có quả gì. Hỏi Ben đã phủ kem lên tất cả bao nhiêu chiếc bánh?


--	--	--	--	--	--	--	--

Bài 4


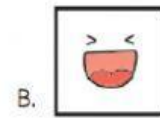
Sắp xếp những quả bóng để nhận được một phép tính đúng.



Phép tính nhận được sau khi sắp xếp là:



Bài 5 (Thử thách phụ). Hãy khoanh tròn chữ cái đứng trước hình thích hợp để đặt vào ô trống. Biết mỗi hình chỉ xuất hiện một lần trên mỗi hàng và mỗi cột.



Bài 6 (Thử thách phụ). Điền số thích hợp vào ô trống.

			18	+	37	=	
			+				
28	-	22	=				
			=				
		27	+		=		

			23	+	77	=	
			+				
12	-	3	=				
			=				
		68	+		=		

Bài 7. Nối viên kẹo với túi kẹo thích hợp (theo mẫu).
