

EVALUACIÓN MENSUAL MATEMATICAS

GRADO PRIMERO

1. Completa la tabla realizando las multiplicaciones con factor de 10

NÚMERO	x10
5	
10	
36	
78	
80	

2. Observa la división y relaciona con su respectivo termino

$$\begin{array}{r} 16 \overline{) 8} \\ 0 \overline{) 2} \end{array} \rightarrow$$

16

2

8

0

Dividendo

Divisor

Residuo

Cociente

3. Calcula y completa :

La mitad de 12 es

La mitad de 18 es

La mitad de 14 es

Un tercio de 12 es

Un tercio de 24 es

Un tercio de 15 es

Un cuarto de 32 es

Un cuarto de 20 es

Un cuarto de 28 es

4. Resuelve las siguientes divisiones y escribe si es exacta o inexacta







$$6 \overline{) 2}$$

$$9 \overline{) 2}$$

$$11 \overline{) 2}$$

$$14 \overline{) 2}$$

5. Resuelve mentalmente las siguientes divisiones y escribe el resultado

 $36 \div 3$	 $25 \div 5$
 $36 \div 6$	 $45 \div 9$
 $45 \div 9$	 $30 \div 3$