

ÀREA DEL CUADRADO Y DEL RECTÀNGULO

1. Escriba en la casilla los números adecuados.

a. $1 \text{ m}^2 = \square \text{ cm}^2$

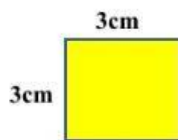
b. $1 \text{ km}^2 = \square \text{ m}^2$

c. $1 \text{ dm}^2 = \square \text{ cm}^2$

d. $1 \text{ cm}^2 = \square \text{ mm}^2$


2. Encuentre el área de las siguientes figuras.

Cuadrado $A = \text{lado} \times \text{lado}$



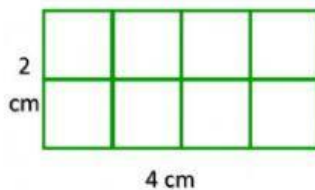
- a.
- b.
- c.

Rectángulo $A = \text{Base} \times \text{altura (bxh)}$

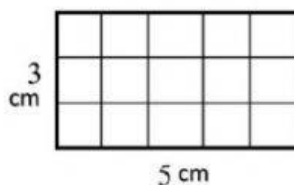


- a.
- b.
- c.

3.



$A = 15 \text{ cm}^2$



$A = 8 \text{ cm}^2$