
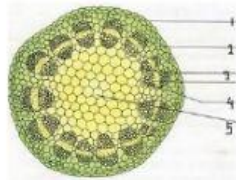



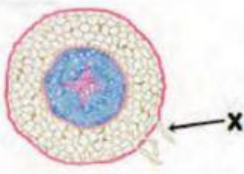
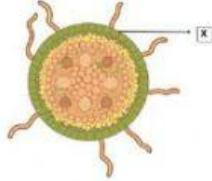
LKPD STRUKTUR DAN FUNGSI JARINGAN TUMBUHAN
OLEH: SULASTRI, S.Pd
SMP N 2 BUMIRATUNUBAN



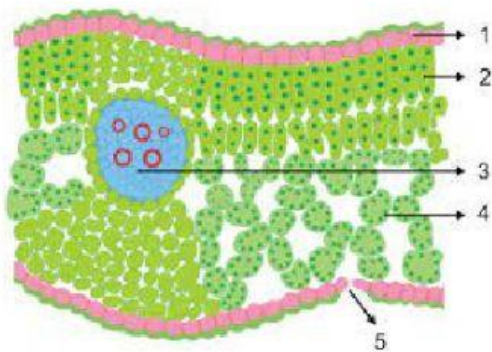
NAMA	
KELAS	

Perhatikan gambar! Sebutkan nama gambar tersebut sesuai pilihan yang disediakan!

NO	GAMBAR	NAMA
1.		
2.		
3.		

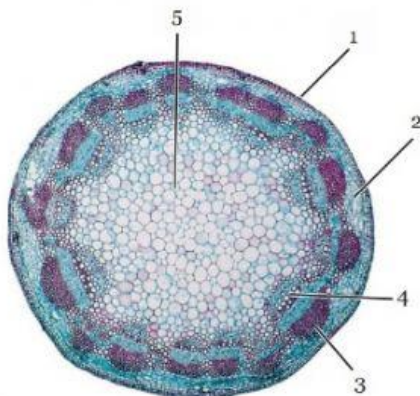
4.		
5.		

Perhatikan gambar berikut! Sebutkan nama bagian sesuai yang ditunjukkan oleh nomor dan fungsinya!



NO	Nama jaringan	Fungsi
1		
2		
3		
4		
5		

Perhatikan gambar! Sebutkan nama bagian sesuai yang ditunjuk oleh nomor dengan menarik nama-nama yang ada!



Sumber: Campbell *et al.* 2008

KORTEKS

EMPULUR

EPIDERMIS

XILEM

FLOEM

Pasangkan teknologi yang ada di sebelah kiri dengan struktur jaringan tumbuhan yang menginspirasi di sebelah kanan!

