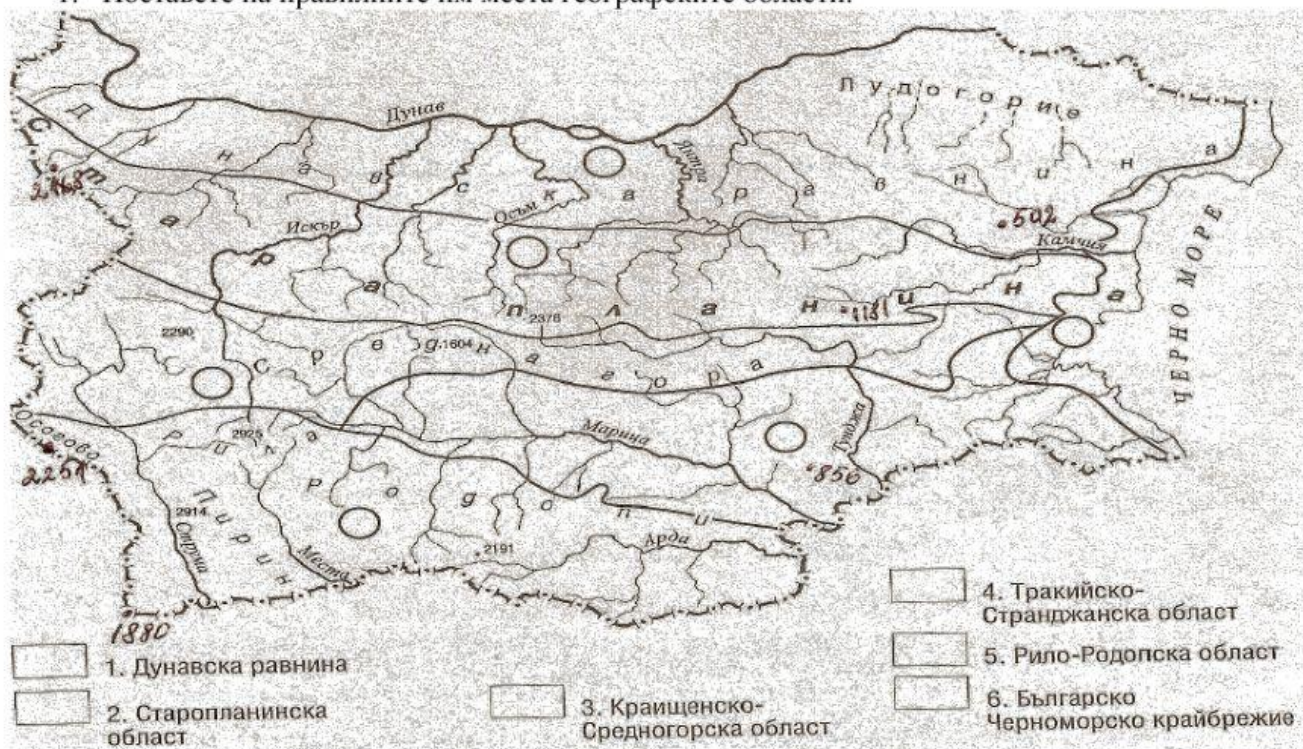


Природни области в България - упражнение Име

1. Поставете на правилните им места географските области.

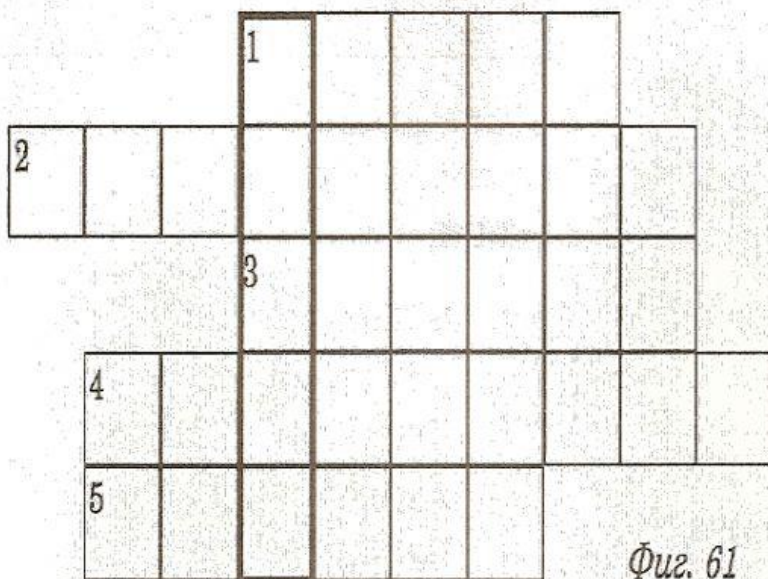


2. Поставете на правилните им места природните обекти.

- | | | |
|-------------------------|-------|---------------------------|
| Дунавска равнина | | 1.. Предбалкан |
| Старопланинска област | | 2. Средна гора |
| Краищенско-Средногорска | | 3. Витоша |
| Рило- Родопска | | 4. Беласица |
| | | 5. Горнотракийска низина |
| | | 6. Пирин |
| | | 7. Задбалкански котловини |



1. Решете кръстословицата. В посочената вертикална колона ще получите името на река в Дунавската равнина, която има много извивки (меандри).



Фиг. 61

Водоравно:

1. Град, разположен по долината на р. Тунджа
2. Най-високата точка на Дунавската равнина
3. Голяма река в Горнотракийската низина
4. Възвишения в Горнотракийската низина
5. Плодородна земя между р. Цибрица и р. Огоста

Северна граница на Дунавската равнина е:

- а) река Тимок; б) Старопланинската област;
в) Българското Черноморско крайбрежие; г) река Дунав.

Най-високата точка в Дунавската равнина, Търнов дял, се намира в:

- а) Плевенските възвишения; б) Шуменското плато;
в) Лудогорско плато; г) Разградски височини.

Средната част на Дунавската равнина е разположена между реките:

- а) Вит и Янтра; б) Тимок и Искър; в) Искър и Янтра; г) Огоста и Русенски Лом.

В коя част на Дунавската равнина са разположени находищата на каолин и каменна сол:

- а) северната; б) западната; в) средната; г) източната.

Годишните валежи в Дунавската равнина намаляват от:

- а) изток на запад и от север на юг; б) юг на север и от запад на изток;
в) изток на запад и от юг на север; г) запад на изток и от север на юг.

Природният резерват езерото Сребърна е разположен до река:

- а) Тимок; б) Русенски Лом; в) Янтра; г) Дунав.

За коя природна област се отнася описанието:

Релефът е хълмист и нископланински и се състои от възвишения, плата и различни по височина планини, между които са разположени неголеми котловини. Най-високият връх е Васильов, който се издига в едноименната планина. Реките са образували живописни проломи. В западната част на областта природата е изваяла величествените Белоградчишки скали и пещерата „Магурата“.

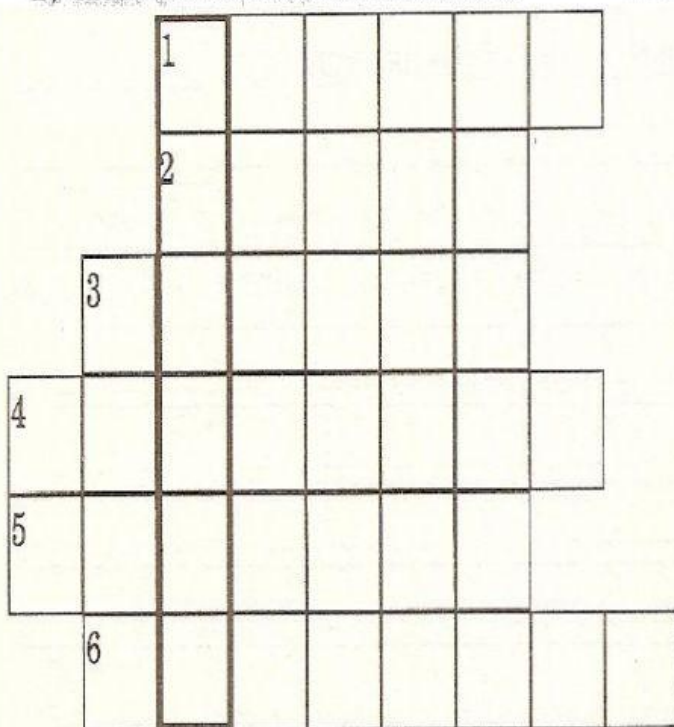
- а) Стара планина; б) Родопи; в) Предбалкан; г) Средногорие.

Най-високият връх на Стара планина е:

- а) Миджур; б) Ботев; в) Българка; г) Ком.

За кои части на Стара планина е характерен преходноконтинентален климат:

- а) източните най-ниски части; б) западните най-ниски части;
в) частите с височина над 1000 м; г) под 1000 м по северните планински склонове.



Водоравно:

1. Вторият по големина черноморски град
2. Нос на Черно море
3. Курортно селище по Северното Черноморие
4. Крайречно езеро, резерват
5. Гора по долината на р. Камчия
6. Гранична река, която се влива в Черно море.

Фиг. 65.

12. Открийте съответствието между двойката „географски обект-природна област“.

Географски обекти:

1. Софийска котловина
2. Ждрелото на река Ерма
3. Същинска Средна гора
4. Пещера Орлова Чука
5. Черноземни почви
6. Природен парк „Русенски Лом“
7. Кътински земни пирамиди
8. Водопад Райско пръскало
9. Национален парк „Централен Балкан“
10. Силен падащ вятър „бора“
11. Сакар планина
12. Кюстендилската котловина
13. Върхлицен басейн „Марица-Изток“
14. Трънска котловина
15. Осоговска планина
16. Мусаленски езера
17. Връх Голям Перелик
18. Пясъчни дюни
19. Долината на река Места
20. Бъдеришки езера
21. Белоградчишки скали
22. Природен парк Витоша
23. Старозагорско поле
24. Ямболско поле

Отговорете тук:

- а); б); в); г); д); е);
ж); з); и); й); к)

Природни области и природни части:

- а) Дунавска равнина
- б) Предбалкан
- в) Стара планина
- г) Задбалкански котловини
- д) Средногорие
- е) Краище
- ж) Горнотракийска низина
- з) Краищенско-Средногорска област
- и) Тракийско-Странджанска област
- й) Рило-Родопска област
- к) Черно море и Българско Черноморско крайбрежие