



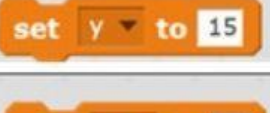











ชื่อ _____

เลขที่ _____

ชั้น _____

คำชี้แจง : พิจารณาล็อกคำสั่งต่อไปนี้ และใส่ผลการทำงานให้ถูกต้อง

1	$x \leftarrow 5$		x มีค่าเท่ากับ.....
2	$y \leftarrow 8$		y มีค่าเท่ากับ.....
3	$z \leftarrow 4$		z มีค่าเท่ากับ.....
4	$y \leftarrow 10$ $y \leftarrow 15$	 	y มีค่าเท่ากับ.....
5	$x \leftarrow 5$ $y \leftarrow x$	 	x มีค่าเท่ากับ..... y มีค่าเท่ากับ.....
6	$z \leftarrow 1 + 8$		z มีค่าเท่ากับ.....
7	$y \leftarrow 5$ $x \leftarrow 7$ $z \leftarrow x - y$	  	x มีค่าเท่ากับ..... y มีค่าเท่ากับ..... z มีค่าเท่ากับ.....
8	$x \leftarrow 7$ $y \leftarrow 5$ $z \leftarrow x + y$	  	x มีค่าเท่ากับ..... y มีค่าเท่ากับ.....