



# ชื่อ





## ตอนที่ 1

1 เขียนความสัมพันธ์ของแบบรูปของจำนวนที่กำหนดลงใน







1.    





23      92      368            5,888

2.    

48      144                  3,888

3.    

90      270            2,430      7,290

4.    

112      448      1,792           

5.    

     630      1,260            5,040