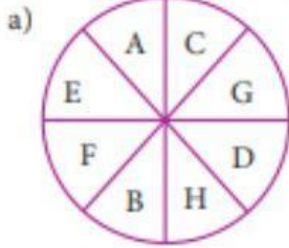


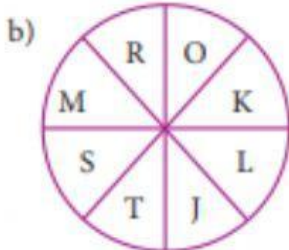
Nivel básico

1. Observa los siguientes gráficos y responde.



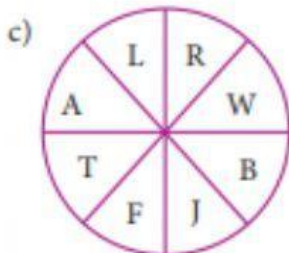
¿Quién está al frente de B?

Rpta.:



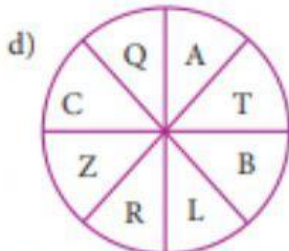
¿Quién está junto y a la derecha de R?

Rpta.:



¿Quiénes están junto a W?

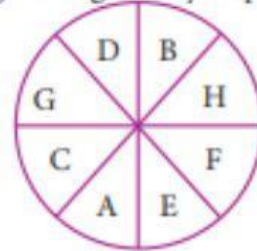
Rpta.:



¿Quiénes están a la izquierda de L?

Rpta.:

2. Observa el siguiente gráfico y responde.



a) ¿Quién está al frente de G?

b) ¿Quién o quiénes están a la derecha de H?

c) ¿Quiénes están junto a D?

3. En una mesa circular de 6 asientos, distribuidos simétricamente, se sientan seis amigos A, B, C, D, E y F.

Se sabe lo siguiente:

A se sienta junto y a la derecha de D.

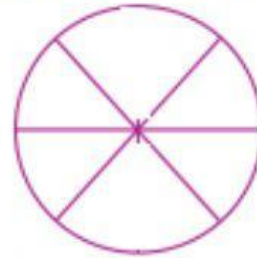
B se sienta frente a D.

E se sienta junto a B.

F está entre B y A.

a) ¿Quién está junto y a la izquierda de B?

b) ¿Quién está dos lugares a la izquierda de E?



4. Andrés, Beto, Carlos, Denis, Emilio y Federico se sientan alrededor de una mesa circular con seis asientos simétricamente distribuidos.

Se sabe lo siguiente:

Frente a Carlos está Denis.

Andrés se sienta junto y a la izquierda de Beto.

Andrés está junto a Carlos.

Federico está frente a Beto.

a) ¿Quién está frente a Beto?

b) ¿Quiénes están a la derecha de Andrés?

