



Nombre: _____ Curso: _____




MÚSICA 4º PRIM.: ACTIVIDADES REPASO DEL 1º TRIM

1. Escucha y ordena estos fragmentos musicales.




2. Observa cada una de las flautas y arrastra la nota que le corresponde.





















3. Selecciona la nota más grave de cada pareja.



















































4. Escribe el nombre de las notas.



5. Completa las casillas del siguiente cuadro.

1 redonda  , equivale a  	1 negra  , equivale a  
1 blanca  , equivale a  	1 blanca  , equivale a  
2 corcheas  , equivalen a  	1 redonda  , equivale a  

6. Sumas con figuras. Resuelve:

 +  = 	 +  +  = 	 +  = 
 +  = 	 +  +  = 	 +  = 
 +  = 	 +  +  = 	 +  = 
 +  = 	 +  +  = 	
 +  = 	 +  +  = 	 +  +  = 

7. Escribe el nombre de estos instrumentos y selecciona el instrumento intruso.







8. Relaciona:

CLARINETE

CUERDA FROTADA

TUBA

CUERDA PERCUTIDA

XILÓFONO

CUERDA PULSADA

CAJA CHINA

VIENTO MADERA

GUIARRA

VIENTO METAL

PIANO

PERCUSIÓN DETERMINADA

VIOLA

PERCUSIÓN INDETERMINADA

9. Completa el esquema con el nombre de las voces.



• VOCES INFANTILES O

VOCES



• VOCES FEMENINAS

AGUDA

INTERMEDIA

GRAVE



• VOCES MASCULINAS

AGUDAS

INTERMEDIA

GRAVE