

6. รูปสี่เหลี่ยมผืนผ้า กว้าง 3 เซนติเมตร ยาว 5 เซนติเมตร รูปสี่เหลี่ยมรูปนี้มีพื้นที่เท่าไร

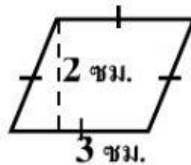
ก. 5 ตารางเซนติเมตร

ข. 5 ตารางเมตร

ค. 15 ตารางเซนติเมตร

ง. 15 ตารางเมตร

7. จากรูปสี่เหลี่ยมขนมเปียกปูนมีพื้นที่เท่าไร



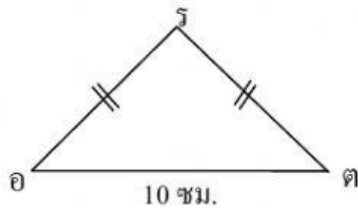
ก. 6 ตารางเซนติเมตร

ข. 3 ตารางเซนติเมตร

ค. 12 ตารางเซนติเมตร

ง. 18 ตารางเซนติเมตร

8.



จากรูป รูปสามเหลี่ยมหน้าจั่ว อรต มีเส้นรอบรูปยาว 40 เซนติเมตร มี ด้าน อต

เป็นฐานยาว 10 เซนติเมตร ด้าน รอ ยาวเท่าไร

ก. 13 เซนติเมตร

ข. 13.5 เซนติเมตร

ค. 15 เซนติเมตร

ง. 30 เซนติเมตร

9. ล้อรถจักรยานคันหนึ่งมีเส้นผ่านศูนย์กลาง 14 เซนติเมตร ถ้าล้อหมุนไปได้ 1 รอบ จะได้ระยะทางเท่าไร

$$\left(\pi = \frac{22}{7}\right)$$

ก. 14 เซนติเมตร

ข. 88 เซนติเมตร

ค. 176 เซนติเมตร

ง. 28 เซนติเมตร

10. ครอบงอบหนึ่ กัครอบงอบเป็รูปรวงกลม มีรัศมี 7 เซนติเมตร กัครอบงอบนี้ม่พื้นที่

กัตารางเซนติเมตร ($\pi = \frac{22}{7}$)

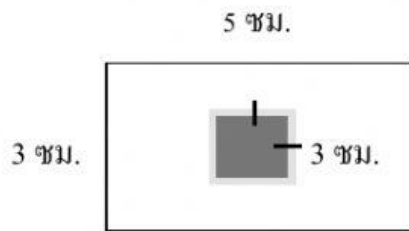
ก. 49 ตารางเซนติเมตร

ข. 22 ตารางเซนติเมตร

ค. 154 ตารางเซนติเมตร

ง. 3.89 ตารางเซนติเมตร

11.



จากรูป ส่วนที่ม่ได้ระบายสี มีพื้นที่เท่าไร

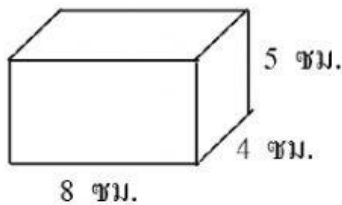
ก. 6 ตารางเซนติเมตร

ข. 15 ตารางเซนติเมตร

ค. 9 ตารางเซนติเมตร

ง. 45 ตารางเซนติเมตร

12.



จากรูป กล่องทรงสี่เหลี่ยมมุมฉากมีปริมาตรเท่าไร

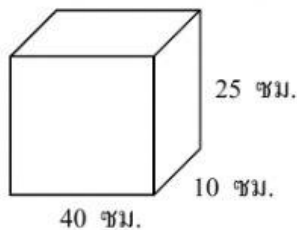
ก. 40 ลูกบาศก์เซนติเมตร

ข. 160 ลูกบาศก์เซนติเมตร

ค. 32 ลูกบาศก์เซนติเมตร

ง. 20 ลูกบาศก์เซนติเมตร

13.



จากรูป กล่องใบนี้ม่มีความจุเท่าไร

ก. 250 ลูกบาศก์เซนติเมตร

ข. 400 ลูกบาศก์เซนติเมตร

ค. 1,000 ลูกบาศก์เซนติเมตร

ง. 10,000 ลูกบาศก์เซนติเมตร

14. 2 , 5 , 7 , 12 , 19 , 31 , จากแบบรูปของจำนวนที่กำหนดให้จำนวนต่อไปคือจำนวนใด

ก. 47

ข. 50

ค. 68

ง. 72

15. 270 90 30 10 แบบรูปของจำนวนมีความสัมพันธ์กันอย่างไร

ก. หาคด้วย 3

ข. ลบทีละ 180

ค. ลบทีละ 60

ง. คูณด้วย 2

16. ข้อใดเป็นสมการที่เป็นจริง

ก. $18 - 9 = 8$

ข. $9 + 6 = 15$

ค. $35 \times 0 = 35$

ง. $8 \times 6 = 40$

17. จงแก้สมการ $X + 20 = 80$

ก. $X = 80$

ข. $X = 40$

ค. $X = 60$

ง. $X = 20$

18. จงแก้สมการ $C \div 12 = 3$

ก. $C = 36$

ข. $C = 0.25$

ค. $C = 4$

ง. $C = 2.5$

19. จงแก้สมการ $7 \times K = 63$

ก. $K = 56$

ข. $K = 9$

ค. $K = 70$

ง. $K = 441$

20. จงแก้สมการ $\frac{X}{4} - 20 = 40$

ก. $X = 240$

ข. $X = 80$

ค. $X = 15$

ง. $X = 8$