

## ACTIVIDAD INTERACTIVA DE MATEMÁTICAS

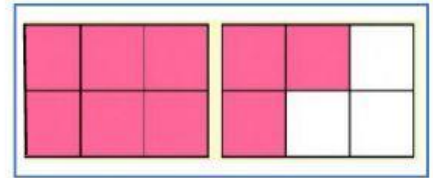
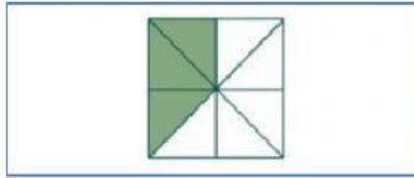
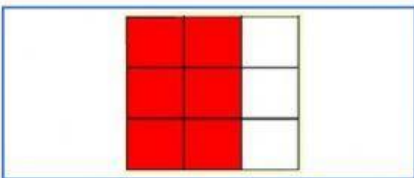
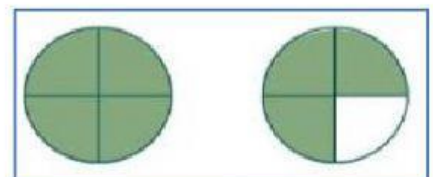

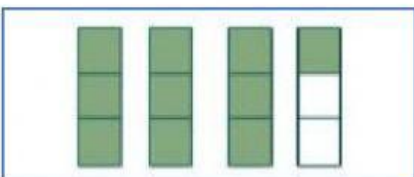
### FRACCIONES PROPIAS E IMPROPIAS

1. Observa las fracciones que han sido representadas y ubica según corresponda:

**Fracciones propias**



**Fracciones impropias**



2. Escribe la fracción y coloca **P** si es propia o **I** si es impropia:

