



Asignatura: NATURALES

Grado: PRIMERO

NOTA

VALORACIÓN DE CONTENIDOS TERCER TRIMESTRE

Estudiante:

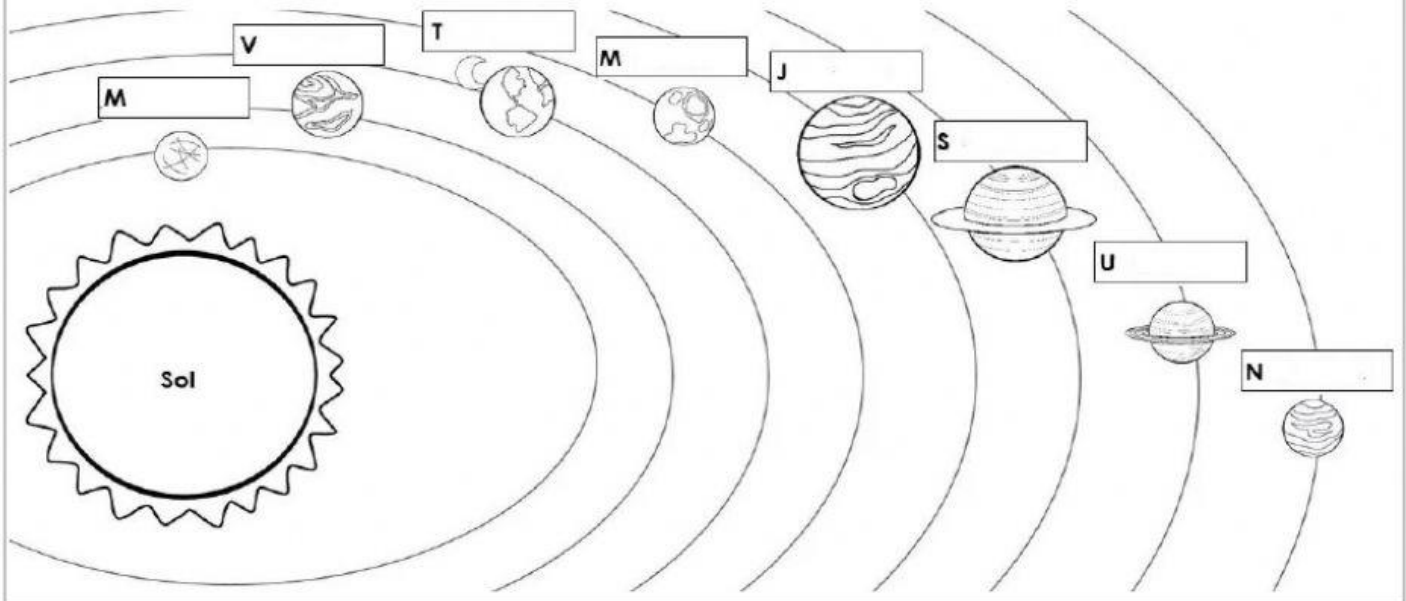
Docente: YENNY CARVAJAL

Fecha: NOVIEMBRE

1. ESCRIBE EL NOMBRE DE LOS PLANETAS DEL SISTEMA SOLAR

Puntaje del ejercicio

... / 1.0




2. OBSERVA LOS MOVIMIENTOS DE LA TIERRA Y LUEGO COMPLETA LA INFORMACIÓN

El movimiento de _____ produce

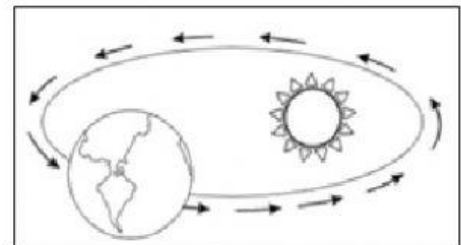
el _____ y la _____.

El movimiento de rotación dura _____.



El movimiento de _____ la

_____ gira alrededor del _____.





Puntaje del ejercicio

... / 1.0

3. ESCRIBO QUÉ TIPO DE FUERZA ES... SI JALAR O EMPUJAR

Puntaje del ejercicio

... / 1.5



4. ESCRIBO QUE FORMA DE ENERGÍA PRESENTAN LOS SIGUIENTES OBJETOS (Mecánica, lumínica, térmica y química)

Puntaje del ejercicio

... / 1.5

