



## Instituto Nacional de Jalapa

**Contenido** C3: Cálculo de las longitudes de los catetos e hipotenusa de un triángulo rectángulo  
S2C1: Cálculo de la altura y volumen de un cono aplicando teorema de Pitágoras

**Grado** 9<sup>no</sup>

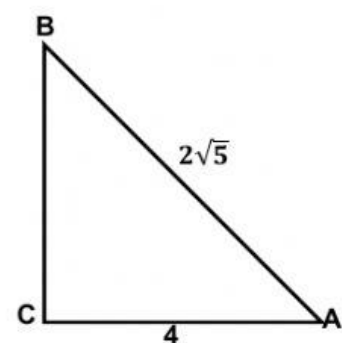
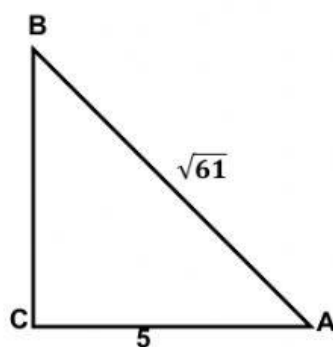
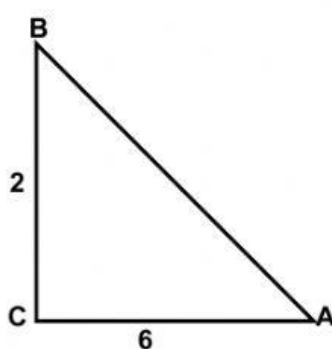
**Sección**

**Nombre**

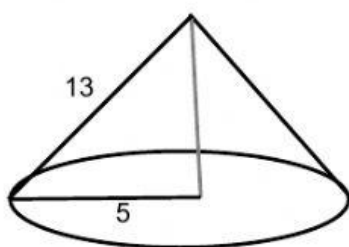
**Fecha**

Mini test

**I Calcule el valor del lado desconocido aplicando el teorema de Pitágoras escriba su respuesta en el cuadro de abajo**

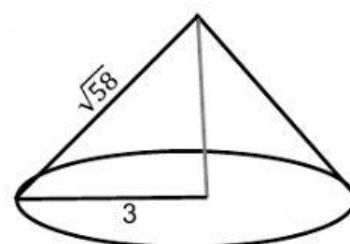


**II Calcule la altura y el volumen del cono escriba la respuesta en el cuadro de abajo**



h  v

Respuesta pi



h  v