

**LKPD INTERAKTIF**  
**PENGGOLONGAN HEWAN BERDASARKAN JENIS**  
**MAKANANNYA**



**NAMA :**

**KELAS :**

**Nama sekolah :** SDN Bunsalak  
**Tema 3 :** Ekosistem  
**Sub Tema 1 :** Komponen Ekosistem  
**Pembelajaran :** 2 (dua)  
**Hari / tanggal :** Senin , 15 November 2021  
**Waktu :** 08.00 – 09.00





Bacalah dan perhatikan teks dibawah ini!

Berdasarkan jenis makanannya, hewan dikelompokkan menjadi tiga golongan. Ketiga golongan itu adalah golongan herbivor, karnivor, dan omnivor. Kelompok hewan herbivor merupakan hewan yang makanannya berasal dari tumbuhan. Hewan ini memiliki susunan gigi yang khas. Gigi hewan ini terdiri atas gigi seri dan gigi geraham, dan tidak memiliki gigi taring. Gigi seri berada di depan dan tajam. Gigi ini berguna untuk memotong makanan. Sementara itu, gigi geraham berfungsi untuk menghaluskan makanan yang telah dipotong oleh gigi seri. Contoh hewan yang termasuk kelompok ini adalah sapi, kelinci, kerbau, dan rusa.

Kelompok hewan karnivor adalah kelompok hewan yang memakan hewan lain. Sebagian besar hewan yang termasuk di dalam kelompok ini merupakan hewan buas dan liar. Hewan ini harus berburu untuk mendapatkan makanan. Oleh karenanya, hewan ini memiliki gigi taring yang tajam dan kuat. Gigi taring berguna untuk merobek dan mengoyak mangsa. Hewan ini juga memiliki gigi seri yang tajam dan kuat meskipun berukuran kecil. Gigi ini juga berfungsi untuk memotong makanan. Hewan yang termasuk dalam kelompok ini adalah harimau, singa, anjing, buaya, dan ular.

Kelompok hewan omnivor merupakan kelompok hewan yang makanannya berasal dari tumbuhan maupun hewan lain. Hewan omnivor memiliki susunan gigi tersendiri. Gigi seri, gigi taring, dan gigi geraham hewan ini berkembang dengan baik untuk menyesuaikan dengan makanannya. Gigi seri dan gigi taring digunakan ketika memakan makanan yang berupa hewan lain. Sementara itu, gigi seri dan gigi geraham digunakan ketika memakan makanan berupa tumbuhan. Orangutan, gorila, dan monyet, merupakan beberapa contoh hewan yang termasuk dalam kelompok ini.

### SOAL PILIHAN GANDA

1. Kelompok hewan yang merupakan hewan yang makanannya berasal dari tumbuhan disebut?
  - a. Herbivor
  - b. Karnivor
  - c. Herbivor dan karnivor







- d. Omnivor
- 2. Ciri – ciri Kelompok hewan karnivor adalah
  - a. Gigi seri berada di depan dan tajam
  - b. Tidak memiliki gigi taring
  - c. Gigi hewan ini terdiri atas gigi seri dan gigi geraham
  - d. Memiliki gigi taring yang tajam dan kuat.

**Soal Uraian singkat**

- 1. Kelompok hewan yang makanannya berasal dari tumbuhan maupun hewan lain disebut?
- 2. Rusa merupakan hewan yang termasuk golongan hewan pemakan?





### Soal Drag and Drop

1. Tariklah gambar hewan dibawah dan tempatkan berdasarkan kotak sesuai jenis makanannya!



OMNIVORA



HERBIVORA



KARNIVORA

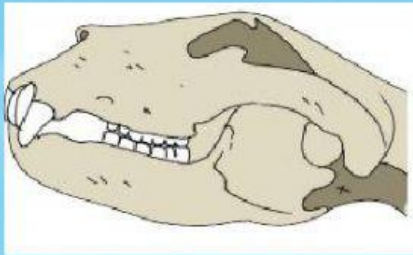






**Soal Join Arrow/menjodohkan**

1. Perhatikan bentuk alat transportasi modern dibawah ini. Kemudian hubungkan/jodohkan dengan menarik garis pada nama bangun geometri sesuai dengan namanya!



OMNIVORA



KARNIVORA









HERBIVORA





### Soal Drop Down

	
PANDA	TUPAI
	
KELINCI	RUSA
	
GUAH	BADAK

Perhatikan gambar diatas. Berdasarkan jenis makanannya, gambar tersebut menunjukkan kelompok hewan ?







### Soal Check Box

Diantara pernyataan dibawah ini, manakah yang termasuk dalam penggolongan jenis hewan berdasarkan jenis makanannya? Pilihan dengan mencentang semua jawaban yang benar!

Sapi, kelinci, kerbau, dan rusa merupakan hewan herbivora

☐

Hewan herbivora harus berburu untuk mendapatkan makanan.

☐

Hewan karnivora memiliki gigi taring yang tajam dan kuat

☐

Kelompok hewan herbivor merupakan hewan yang makanannya berasal dari daging.

☐

Berdasarkan jenis makanannya, hewan dikelompokkan menjadi tiga golongan yaitu herbivor, karnivor, dan omnivor

☐



### Soal Word Search/Pencarian Kata

Carilah kata-kata bangun ruang berikut:

1. KARNIVOR
2. SINGA
3. HERBIVOR
4. SAPI
5. OMNIVOR

K	H	D	H	A	B	I	B	I	O
A	C	Q	S	I	N	G	A	C	M
R	P	E	K	O	N	O	M	I	N
N	H	E	R	B	I	V	O	R	I
I	Q	K	A	L	P	A	V	P	V
V	R	O	W	S	B	X	A	N	O
O	T	P	J	A	W	V	M	Q	R
R	P	E	S	P	W	A	T	A	R
X	X	O	H	I	L	N	T	Q	T







Setelah menyelesaikan LKPD online ini, bacalah petunjuk berikut!

1. Setelah Anda mengerjakan semua soal, periksalah kembali jawaban Anda.
2. Jika Anda sudah yakin dengan semua jawaban, klik tombol FINISH
3. Tulis nama lengkap Anda pada kolom Enter your full name
4. Tulis kelas Anda pada kolom Group/level
5. Tulis mata pelajaran Anda pada kolom School subject
6. Klik Send

