

EVALUACIÓN MENSUAL

APELLIDOS Y NOMBRES _____

1. Resuelve los siguientes ejercicios de números enteros.

1.1. $-5 + 16 - 14 =$


1.2. $(+18) - (-36) =$

2. Resuelve las siguientes operaciones combinadas.

2.1. $(-20) + (+52) - (-22) + (-28)$

2.2. $(+36) + [(-72) + (-36) + (-83)] + (+72)$

3. Observa el siguiente pictograma y responde.



- 3.1. ¿Quién leyó más libro? _____ ¿Cuántos leyó? _____

3.2. ¿Quién leyó menos libros? _____ ¿Cuántos leyó? _____

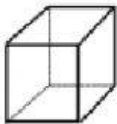



3.3. ¿Cuántos libros más leyó Lucas que Pedro? _____

3.4. ¿Cuántos libros menos leyó Lucas que Olivia? _____

3.5. ¿Quién leyó dieciséis libros? _____

3.6. ¿Cuántos libros leyendo en total todos los niños? _____

4. Completa la tabla.

Poliedros				
Nº caras				
Nº Vértices				
Nº Aristas				

5. Realiza las siguientes conversiones

5.1. 380ml a dal

5.2. 762dl a hl

5.3. 4,5hl a cl

6. Un granjero saca 50cl de cada una de sus vacas por día. Si él tiene 16 vacas ¿Cuántos litros de leche recauda en 5 días?

7. Escribe los números enteros menores a +9 y mayores a -1.

8. Escribe los números enteros mayores a -5 y menores a +5.