

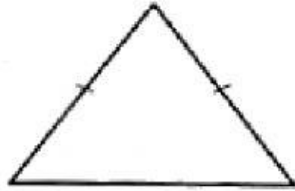
 ให้นักเรียนเลือกชื่อชนิดของรูปสามเหลี่ยม ให้ตรงกับภาพที่กำหนดให้

สามเหลี่ยมด้านเท่า

สามเหลี่ยมหน้าจั่ว

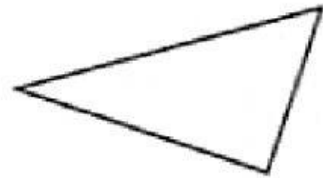
สามเหลี่ยมด้านไม่เท่า

1)



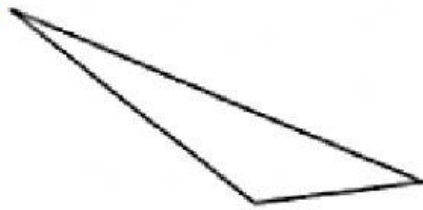
 รูป.....

2)



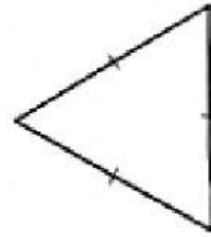
 รูป.....

3)



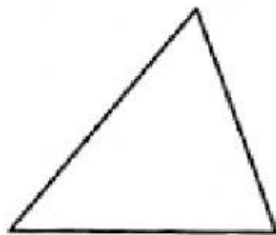
 รูป.....

4)



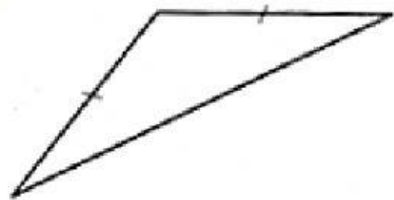
 รูป.....

5)



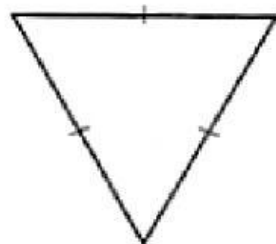
 รูป.....

6)



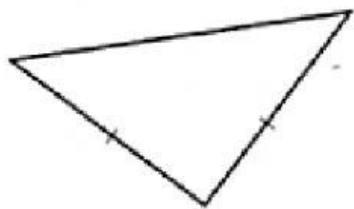
 รูป.....

7)



 รูป.....

8)



 รูป.....