



## EXAMEN PARCIAL DE RAZONAMIENTO MATEMÁTICA

ALUMNO (A): .....

GRADO: 1 Grado

FECHA: 12/11/2021

PROFESORA: Miss: Jenny Rebaza Vélchez

DURACIÓN: 15 minutos

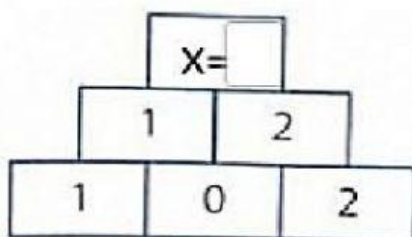
Practicamos

Miss  
Jenny

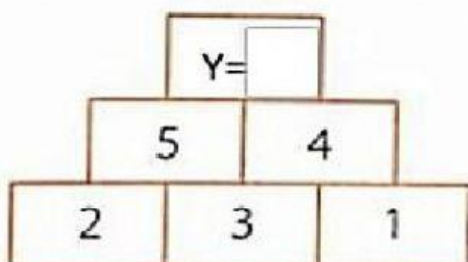
# Sumas y restas en pirámides numérica

Completa las siguientes pirámides

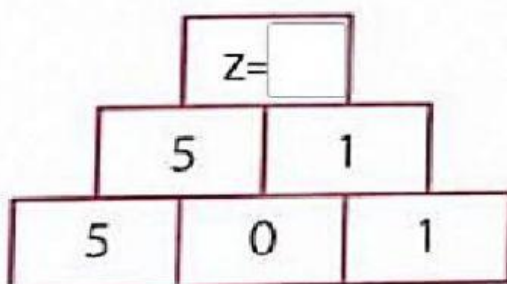
1. Calcula el valor de "X"



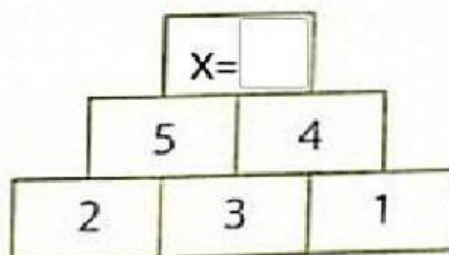
2. calcula el valor de "Y"



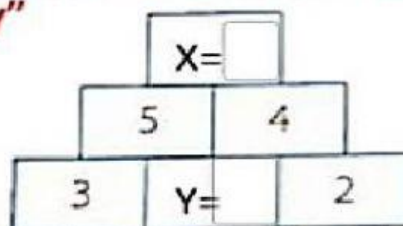
3. Calcula el valor de "z"



4. Calcula el valor de "X",  
en la pirámide de  
adición

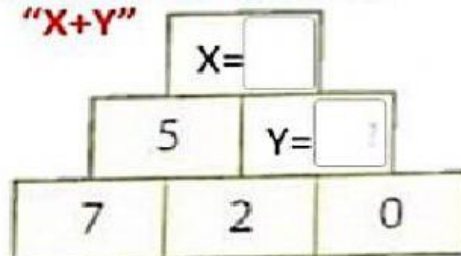


5. Calcula el valor de "X-  
y"



$X - y =$

6. Calcula el valor de  
"X+Y"



$X + y =$



## Sucesiones

Completa las secuencias presentadas.

$+3$

1 4

$+2$

2 4

$-2$

20 18

$-2$

15 13

