

MATEMÁTICAS

EXAMEN 1º TRIMESTRE

Instrucciones: Lee con ayuda de tu maestro las indicaciones y contesta de manera correcta.

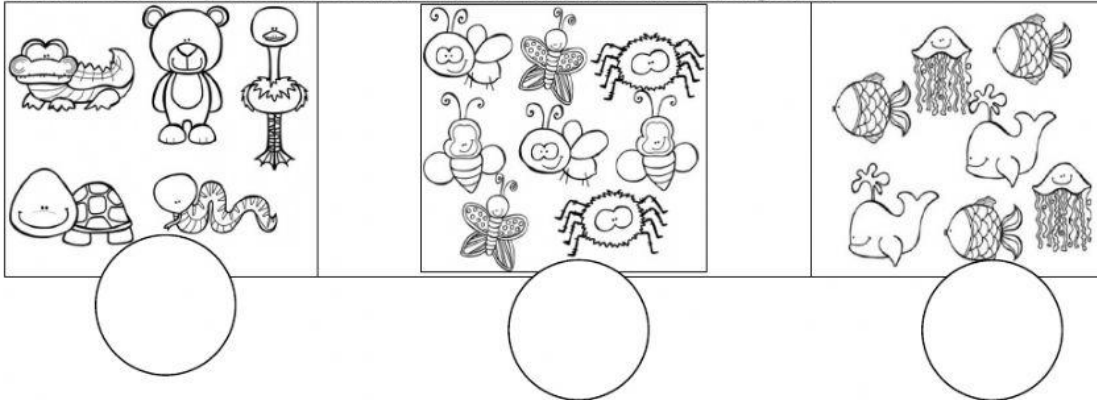
1 a la 3.- Selecciona sólo los números.

2 R T 5 U 8 S P


4 a la 6.- Escribe los números que faltan en la serie numérica.

| | | | | | | | | | |
|---|---|---|--|---|---|--|--|---|----|
| 1 | 2 | 3 | | 5 | 6 | | | 9 | 10 |
|---|---|---|--|---|---|--|--|---|----|

7 a la 9.- Cuenta y escribe la cantidad de animales de cada grupo.




10.- Carlos tenía 10 plátanos, pero se comió 3, ¿Cuántos le van a quedar?




Le van a quedar _____ plátanos.

11.- Selecciona al niño que tiene más puntos en la ficha de dominó.



KariBolt
CLIP ART ON IT!

12, 13 y 14.- Cuenta las frutas del rectángulo y escribe cuántas hay de cada una.








15 y 16.- Observa el registro que hicieron en el grupo acerca de la mascota que quieren tener y contesta las preguntas.

| | | | | |
|---|--|--|--|--|
| 8 | | | | |
| 7 | | | | |
| 6 | | | | |
| 5 | | | | |
| 4 | | | | |
| 3 | | | | |
| 2 | | | | |
| 1 | | | | |



Tortuga



Perro



Conejo



Gato

¿Cuál es la mascota que la mayoría elige? _____


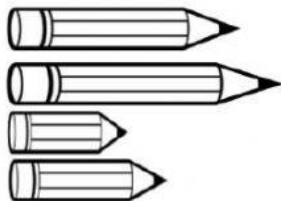
¿Y cuál es la que menos eligieron? _____

17.- Cuenta el dinero que ves.


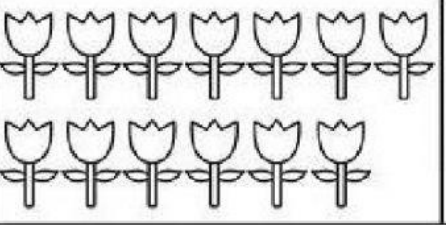
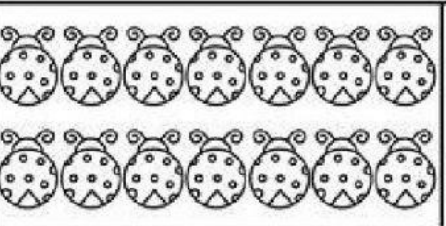


Hay ____ pesos.

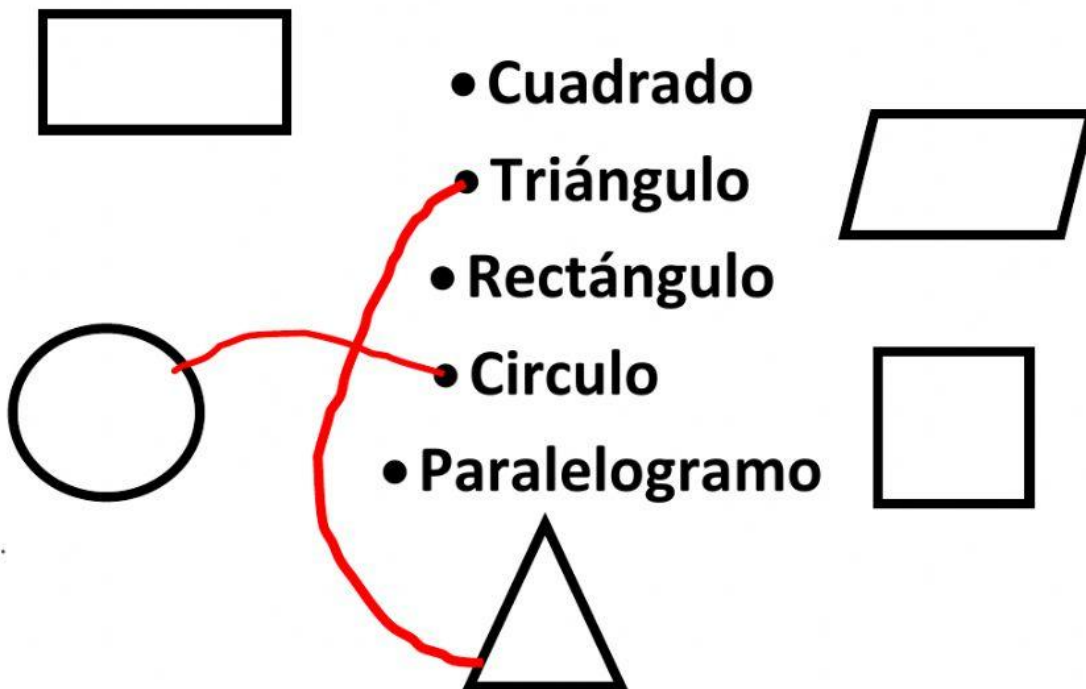
18.- Une con una línea los lápices que son del mismo tamaño.




(19-20).-Selecciona el número que corresponde a las figuras que hay en el cuadro.

| | | |
|---------|---|----------|
| EJEMPLO |  | 13 15 14 |
| |  | 15 14 13 |
| |  | 15 14 13 |

(23-25)-Une con una línea color Rojo el nombre de la figura correcta.



21-22)- Coloca en la siguiente tabla lo que se te pide, así como en el primer ejemplo:

| | | | | | | | | | | | | | | | | | | | | | | | | | | |
|---|---|--|--|--|--|--|--|--|--|--|--|--|--|--|--|--|--|--|--|--|--|--|--|--|--|--|
| <p>UNA DECENA DE LAPICES</p> |  | | | | | | | | | | | | | | | | | | | | | | | | | |
| <p>UNA DECENA Y TRES UNIDADES DE PELOTAS</p> | <table border="1" data-bbox="448 405 1378 741"> <tr><td></td><td></td><td></td><td></td><td></td><td></td><td></td><td></td><td></td></tr> <tr><td></td><td></td><td></td><td></td><td></td><td></td><td></td><td></td><td></td></tr> </table> | | | | | | | | | | | | | | | | | | | | | | | | | |
| | | | | | | | | | | | | | | | | | | | | | | | | | | |
| | | | | | | | | | | | | | | | | | | | | | | | | | | |
| <p>UNA DECENA Y CINCO UNIDADES DE CORAZONES</p> | <table border="1" data-bbox="448 748 1378 1111"> <tr><td></td><td></td><td></td><td></td><td></td><td></td><td></td><td></td><td></td></tr> <tr><td></td><td></td><td></td><td></td><td></td><td></td><td></td><td></td><td></td></tr> </table> | | | | | | | | | | | | | | | | | | | | | | | | | |
| | | | | | | | | | | | | | | | | | | | | | | | | | | |
| | | | | | | | | | | | | | | | | | | | | | | | | | | |

