



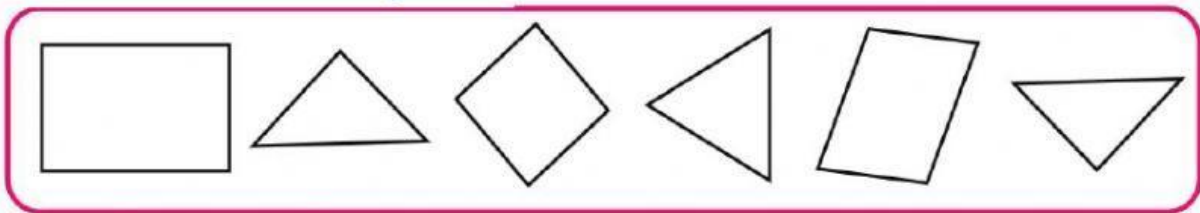


¡Piensa, cabecita piensa!

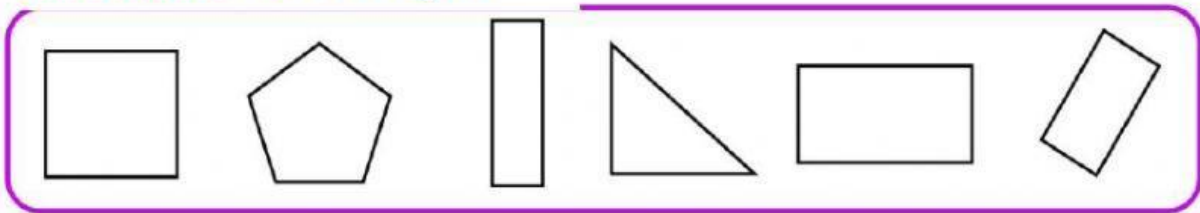
1. Cuenta los lados de cada figura geométrica y marca con un (X).

Cuadrado	Triángulo	Rectángulo	Círculo
			
2 4 3	3 4 1	4 5 6	0 1 6

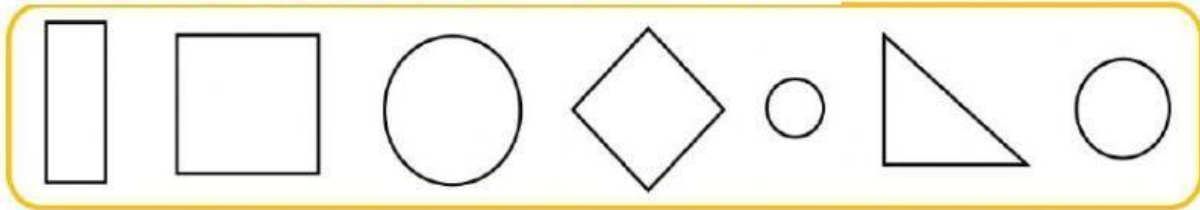
2. Marca todos los triángulos




3. Marca todos los rectángulos



4. Marca todas las figuras que NO son círculos



5. Observa el cuadro que está hecho con muchas figuras y completa la tabla.

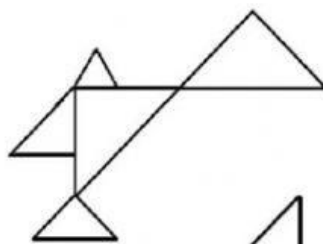
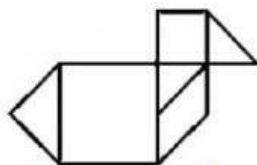


Figuras	¿Cuántos hay?
triángulos	
rectángulos	
cuadrados	
círculos	

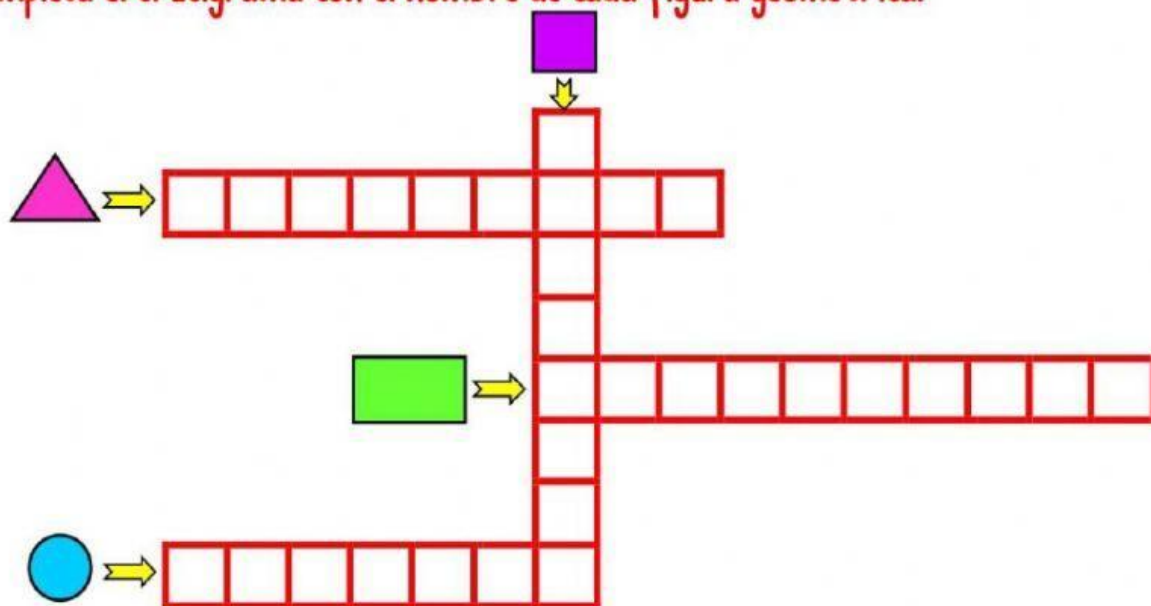
6. Descubre y pinta el dibujo que hizo Luisa. Marca



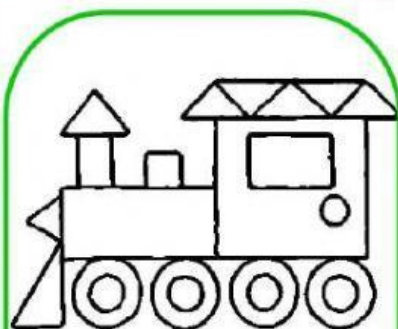
En mi dibujo solo hay triángulos.



7. Completa el crucigrama con el nombre de cada figura geométrica.



8. Escribe la cantidad de figuras geométricas que hay en cada dibujo y colorea.



□ _____

○ _____

△ _____

□ _____



□ _____

○ _____

△ _____

□ _____



□ _____

○ _____

△ _____

□ _____