

I.E.P SAN IGNACIO



Examen de Ciencia

Nombres y apellidos:

Grado:

- 1 Señala si es una mezcla homogénea o heterogénea





Lee todas las palabras del recuadro

POSTCARD

- planeta • agua • gases
- grande • pequeño
- alrededor de la luna
- alrededor del sol
- el sistema solar
- el universo • estrella

Completa las siguientes oraciones:

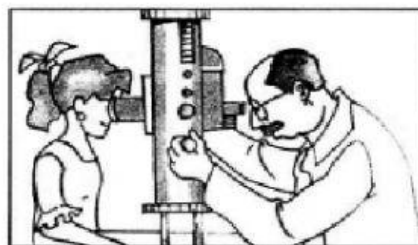
El Sol es una

Está formado por

El Sol es más que la Tierra.

Los planetas giran y forman

Observa las siguientes imágenes y responde:





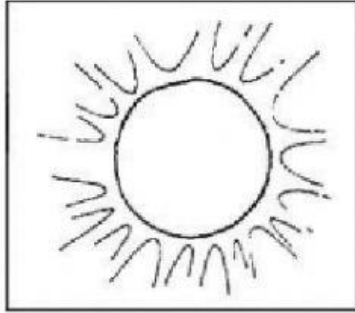
¿Qué daños produce exponernos mucho tiempo al sol?

.....

.....

Lee las preguntas y responde:

Observa la ilustración y escribe en el renglón si la fuente de calor o luz es natural o artificial.



¿Cómo se llaman los insectos que brillan en las noches?

¿En tu casa, tienes luz eléctrica? ¿Cómo lo ahorran?

¿Cuáles son los cambios de estado de la materia?

¿Qué pasa si dejo mi paleta afuera de mi casa?



¡Muy bien!