

A. Gariskan jawapan yang betul.

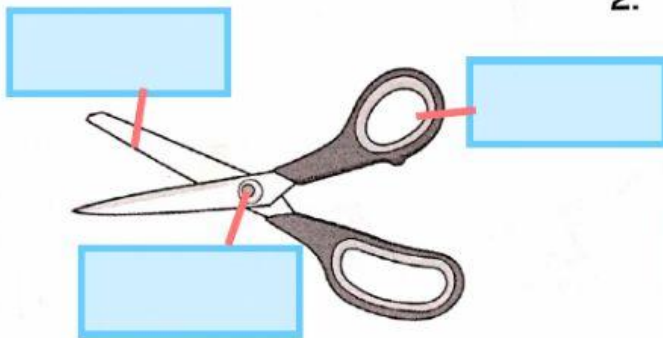


Rujukan Buku Teks
Unit 10; m.s. 170 - 171

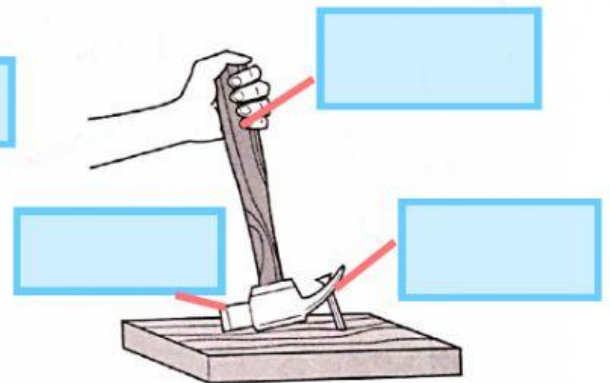
1. Tuas terdiri daripada tiga bahagian, iaitu, (baji , fulkrum), (beban , berat) dan (daya , roda).
2. Fungsi tuas adalah untuk (mengangkat , mengheret) dan (memotong , mengumpul) suatu objek dengan mudah.

B. Labelkan kedudukan 'fulkrum', 'beban' dan 'daya' bagi setiap rajah di bawah.

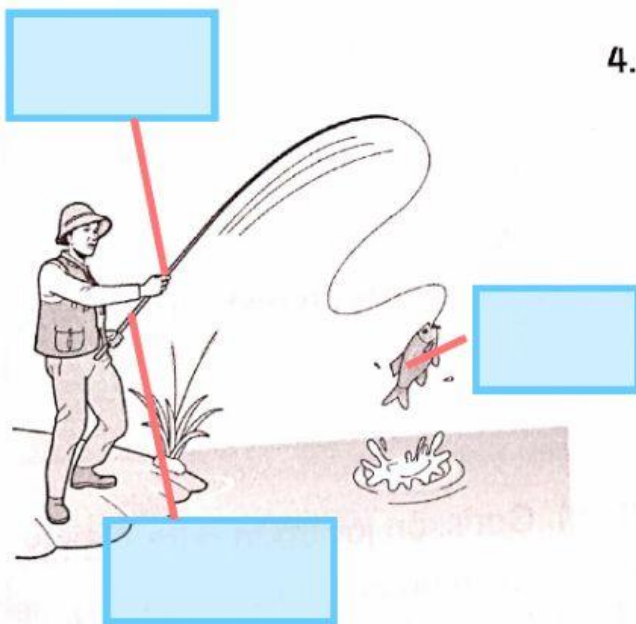
1.



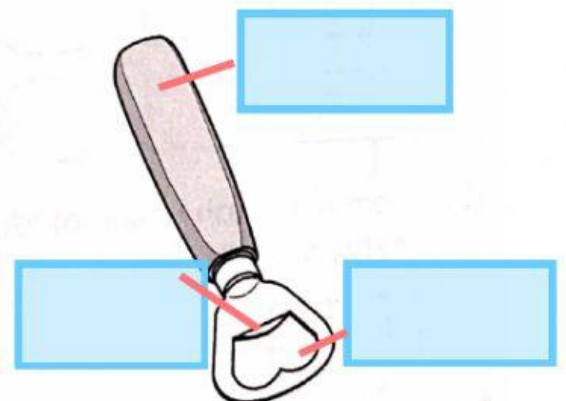
2.



3.



4.



Skor

