

GLI STATI DELLA MATERIA


1. Indica con una X, per ogni oggetto raffigurato, se la materia di cui è composto o che contiene è allo **stato liquido** (L), **solido** (S) o **gassoso** (G).




plastica ☐ L ☐ S ☐ G
acqua ☐ L ☐ S ☐ G



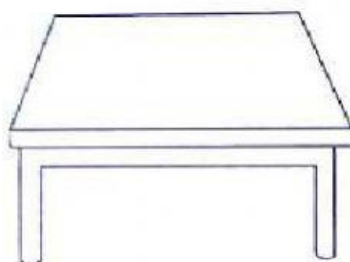
gomma ☐ L ☐ S ☐ G
aria ☐ L ☐ S ☐ G



acciaio ☐ L ☐ S ☐ G



vetro ☐ L ☐ S ☐ G
olio ☐ L ☐ S ☐ G



legno ☐ L ☐ S ☐ G



sabbia ☐ L ☐ S ☐ G

2. Individua la caratteristica comune agli elementi di ciascun gruppo.

Attenzione: c'è un intruso; individualo e [fai clic sull'intruso](#)

olio acqua
bottiglia latte
aranciata

Sono allo stato

.....

sasso legno
bicchiere
ghiaccio
aceto

Sono allo stato

.....

roccia vapore
ossigeno acqueo
gas metano (quello dei
fornelli della cucina)

Sono allo stato

.....