

MATEMÁTICAS REPASO



1. ¿Cuántas botellas hay? _____ botellas




2. ¿Cuántas canicas hay? _____ canicas.



3. María tenía 20 canicas después ganó 5 más. ¿ Cuántas canicas tiene ahora ?



4. Escribe cuánto dinero hay en cada caso.

5. completa la serie con los números que faltan.

19	20			23		25			28
----	----	--	--	----	--	----	--	--	----

6. Resuelve las siguientes preguntas

Si has contado hasta el número 27, ¿cuáles te faltan para llegar al 30?

- ☐ 24 y 25
- ☐ 12, 14, 16
- ☐ 10 y 20
- ☐ 28 y 29

¿Cómo se escribe con letra el número 23?

- ☐ Veinte y tres.
- ☐ Veintitrés.
- ☐ Tres y veinte.
- ☐ Veintetres.

7. Sofía tiene 8 pesos y Luis tiene 5 pesos. ¿Cuánto dinero tienen entre los dos?



_____ pesos.

8. Si a una niña le regalaron 7 moños, luego 5 y finalmente otros 4, ¿cuántos moños tiene?



9. Selecciona el alimento que tardes más en preparar.



ensalada de atún




Hornear un pan

10. Selecciona qué actividad hizo primero Luis. Si hoy descansó, ayer trabajó y mañana irá a pescar

Hoy descansó.



Ayer trabajé.



Mañana iré a pescar.



 **LIVEWORKSHEETS**

11. Completa la siguiente tabla.

Ayer fue	hoy es	mañana será
lunes		miércoles
	viernes	
domingo		martes

jueves

martes


lunes

sábado

12. Selecciona las monedas que necesitas para comprar los siguientes juguetes.



\$ 28
pesos



\$ 39
pesos

