

Die C-Dur Tonleiter




Wie heißen eigentlich die Teile einer Note?

Beschrifte die Achtelnote mit den Begriffen:

Fähnchen

Notenhals

Notenkopf



Hier siehst du die **C-Dur Tonleiter** in **Viertelnoten** notiert. Schaue dir die Notenschrift genau an!

Du kannst auf die Noten klicken, um sie anzuhören.



Auch Noten haben Namen 😊 Kennst du sie schon alle genau?

Beschrifte die Viertelnoten der C-Dur Tonleiter, indem du die Notennamen unter die Note schreibst:



Im englischsprachigen Raum schreibt man statt dem **H** ein **B**. Erkennst du so das Alphabet in den Notennamen?

WAK

Musikalische Geheimschrift

Welche Wörter sind hier versteckt?

Schreibe die Notennamen unter die Noten und entschlüssele die Geheimschrift.



Notenwerte

Das Aussehen der Note verändert sich, je nachdem, wie lange die Note dauert.

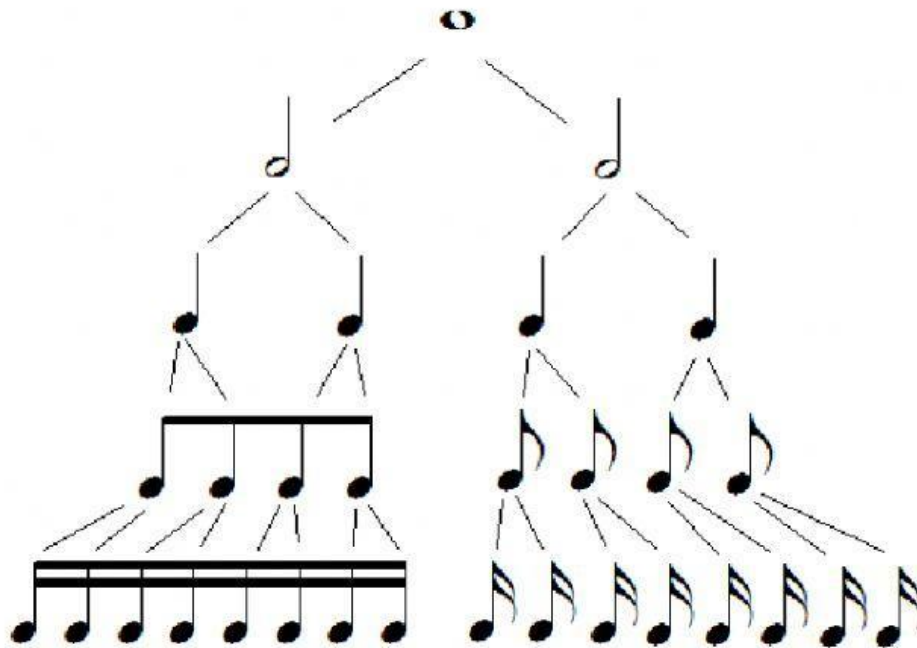
Ordne die Noten:



längster Ton			kürzester Ton	
Ganze Note	Halbe Note	Viertelnote	Achtelnote	Sechzehntelnote

WAK

In der **Notenpyramide** sieht man gut, wie alles zusammenpasst:

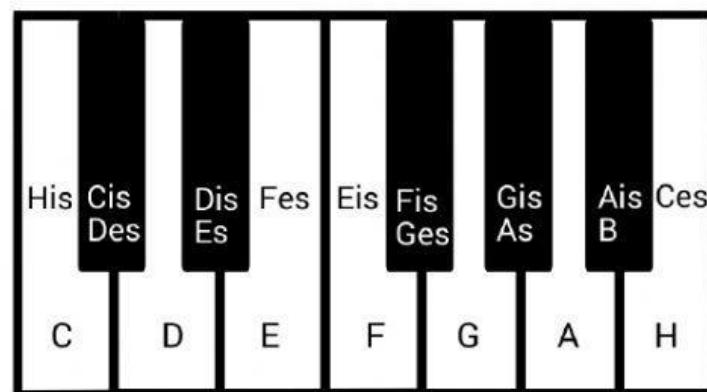


Vorzeichen

Es gibt zwei Vorzeichen, die man vor eine Note setzen kann:

ein Kreuz: erhöht die Note um einen Halbton, -is

b ein B: erniedrigt die Note um einen Halbton, -es



WAK

Schreibe die Notennamen unter die Noten:

