





CICLO ESCOLAR 2020-2021
SECCIÓN PRIMARIA
EVALUACIÓN TRIMESTRE 1
2° GRADO
MATEMÁTICAS

NOMBRE DEL ALUMNO: _____

FECHA: _____ GRUPO: _____ ACIERTOS: _____ (10) CALIF: _____

1. Une con una línea la figura geométrica según sus características

			
Tengo 4 lados, todos son iguales ¿Quién soy?	Tengo 3 lados, todos son iguales ¿Quién soy?	Tengo 6 lados, todos son iguales ¿Quién soy?	Tengo 5 lados, todos son iguales ¿Quién soy?

2. Realiza la siguiente suma y resta.

$$\begin{array}{r} 265 \\ + 135 \\ \hline \end{array}$$

$$\begin{array}{r} 259 \\ - 146 \\ \hline \end{array}$$

CICLO ESCOLAR 2020-2021
SECCIÓN PRIMARIA
EVALUACIÓN TRIMESTRE 1
2° GRADO
MATEMÁTICAS

3. Descompón las siguientes cantidades.

a) 285= _____

b) 167= _____

c) 86= _____

d) 391= _____

4. Cuenta y escribe en números la cantidad de dinero que tienen cada uno.

María



María tiene en total: \$ _____

Sebastián



Sebastián tiene en total: \$ _____

CICLO ESCOLAR 2020-2021
SECCIÓN PRIMARIA
EVALUACIÓN TRIMESTRE 1
2° GRADO
MATEMÁTICAS

5. En cada pareja de números señala el que sea mayor

654	456
-----	-----

890	980
-----	-----

120	211
-----	-----

101	110
-----	-----