

## Resolución de Problemas


### I Resuelve

1. Escribe el resultado de cada una de las divisiones. Usa los dibujos como ayuda


a)  $8 \div 4 = \underline{\hspace{2cm}}$



b)  $12 \div 4 = \underline{\hspace{2cm}}$



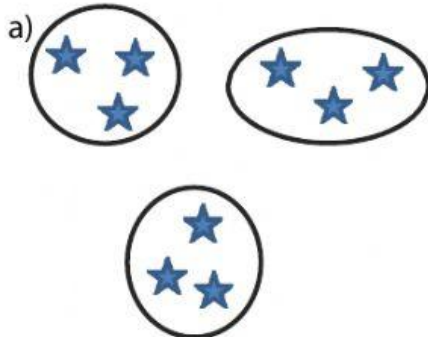
c)  $15 \div 5 = \underline{\hspace{2cm}}$



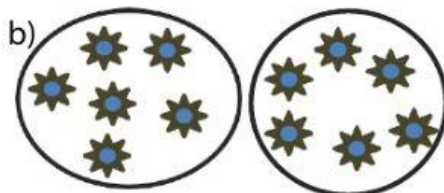
d)  $20 \div 4 = \underline{\hspace{2cm}}$



2. Escribe la división representada



$$\square : \square = \square$$



$$\square : \square = \square$$