



EVALUACIÓN
GRADO TERCERO
CUARTO PERIODO
CIENCIAS

Nombre: _____

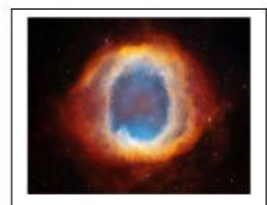

1. Observa las imágenes y une con una línea según corresponda.

Galaxias

Estrellas

Nebulosas

Meteoritos



Marca la respuesta correcta.

2. Los movimientos de la tierra son:

a. Movimientos de traslación y evaporación.

b. Movimientos de rotación y traslación.

c. Movimientos de traslación y eje.

3. Desplazamiento de la tierra sobre su propio eje.

a. Movimiento de rotación.

b. Movimiento de traslación.

c. Temblores.

4. Observa la imagen y escribe a que movimiento de la tierra corresponde:

Movimiento de
rotación.

Movimiento de
traslación.



5. Ubica al lado del sol los planetas rocosos.

Mercurio


Urano

Venus

Marte

Tierra

Neptuno



6. Escribe las etapas del ciclo del agua.