

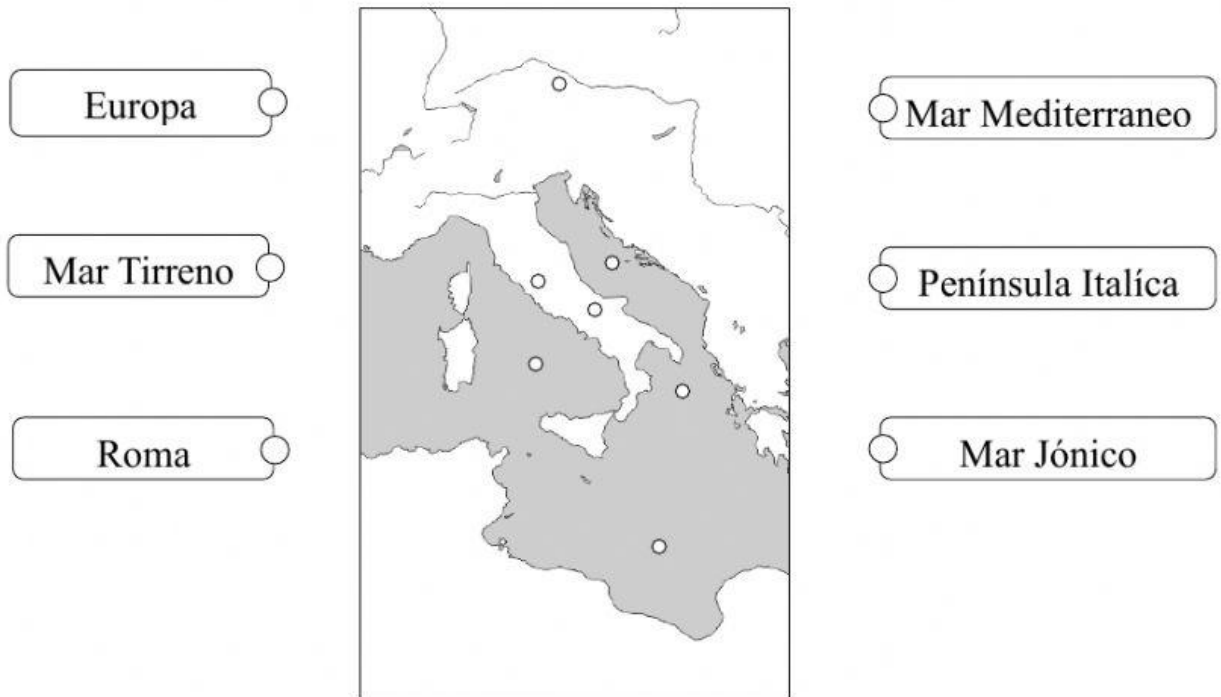


### Geografía civilización romana



Objetivos: Conocer el origen y ubicar geográficamente la civilización romana en el mapa.  
Identificar las principales características y edificaciones de la ciudad romana.  
Conocer los recursos que obtenían los romanos.

- I. Observa el mapa y **une con una línea** cada uno de los lugares donde corresponde en el mapa.



### **Recordemos**

Los romanos cultivaban la tierra con facilidad ya que el clima mediterráneo se caracteriza por tener las cuatro estaciones del año marcadas.

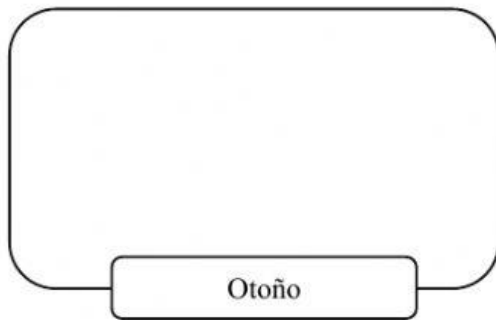
**Otoño:** Los romanos debían sembrar en las laderas de las montañas ya que facilitaba la caída del agua.

**Invierno:** Durante las lluvias del invierno, esperaban que los sembrados se regaran y dieran frutos.

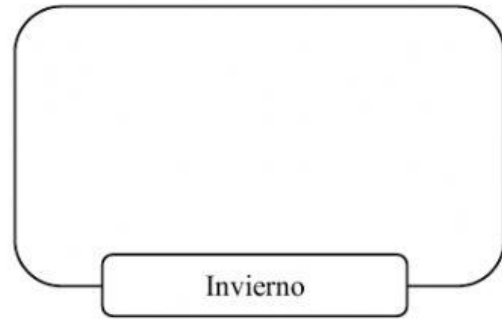
**Primavera:** Al llegar la primavera comenzaba la cosecha: de hortalizas primero, luego de trigo y de cebada.

**Verano:** En el verano se recogían las aceitunas y la uva, con las que se elaboraba aceite de oliva y vino.

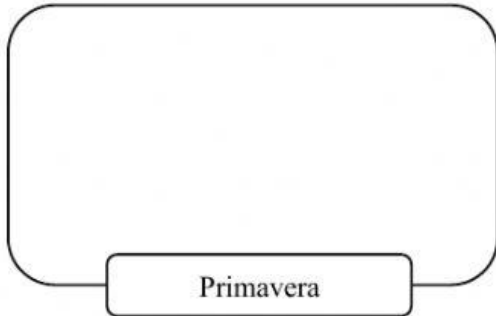
- II. Arrastra la imagen al recuadro que corresponde según lo que realizaban los romanos en cada una de las estaciones el año con la agricultura.



Otoño



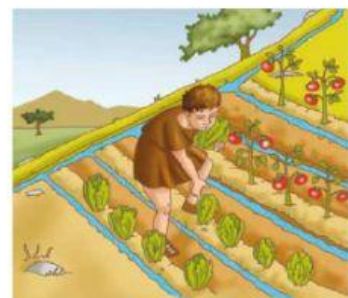
Invierno



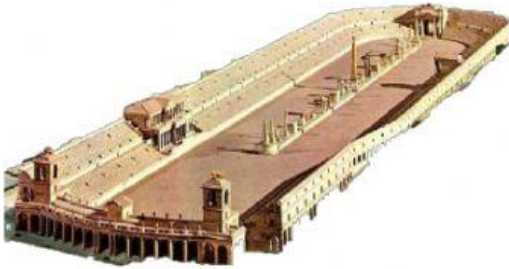
Primavera



Verano



- III. Escribe el nombre de cada una de las construcciones romanas y selecciona la respuesta correcta.



- \_\_\_\_\_
- ¿Para qué utilizaban esta construcción los romanos?
- a) Para ver las carreras de carros.
  - b) Para ver las peleas de gladiadores.
  - c) Para ver obras de teatro.



- \_\_\_\_\_
- ¿Para qué utilizaban esta construcción los romanos?
- a) Para ver las carreras de carros.
  - b) Para ver las peleas de gladiadores.
  - c) Para ver obras de teatro.



- \_\_\_\_\_
- ¿Para qué utilizaban esta construcción los romanos?
- a) Para llevar comida a la ciudad.
  - b) Para llevar agua a la ciudad.
  - c) Para transportarse por la ciudad.