


1. Soluciona los siguientes problemas

1. Hay 24 lápices en una caja. La fábrica produce 4289 cajas al día. ¿Cuántos lápices produce en total en un día?



Respuesta: La fábrica en total produce en un día _____ lápices


Hay 56 colores y debo repartirlos entre 8 niños ¿cuántos colores le corresponden a cada uno?




Respuesta: A cada niño le corresponden _____ lápices de colores

2. Observa atentamente cada cuadro y responde

¿Cuántos dulces deben ir en cada bolsa?



¿Cuántos personas deben ir en cada bus?



¿Cuántos balones le corresponden a cada jugador?



3. Completa el residuo de las siguientes divisiones

$$\begin{array}{r} 20 \overline{) 6} \\ \hline \end{array}$$

$$\begin{array}{r} 23 \overline{) 9} \\ \hline \end{array}$$

$$\begin{array}{r} 22 \overline{) 3} \\ \hline \end{array}$$

$$\begin{array}{r} 18 \overline{) 4} \\ \hline \end{array}$$

$$\begin{array}{r} 46 \overline{) 5} \\ \hline \end{array}$$

$$\begin{array}{r} 15 \overline{) 2} \\ \hline \end{array}$$



4. Resuelve las siguientes divisiones

$$\begin{array}{r} 823 \overline{) 2} \\ \square \square \square \\ \square \square \square \\ \square \square \square \end{array}$$

$$\begin{array}{r} 324 \overline{) 2} \\ \square \square \square \\ \square \square \square \\ \square \square \square \end{array}$$

$$\begin{array}{r} 177 \overline{) 5} \\ \square \square \square \\ \square \square \square \end{array}$$

5. Resuelve las siguientes multiplicaciones

$$\begin{array}{r} \times 5.874 \\ 29 \\ \hline \square \square \square \square \\ \square \square \square \square \\ \hline \square \square \square \square \end{array}$$

$$\begin{array}{r} \times 4.627 \\ 21 \\ \hline \square \square \square \square \\ \square \square \square \square \\ \hline \square \square \square \square \end{array}$$