




Primer Quimestre
Evaluación del primer parcial



Matemática



Indicaciones:



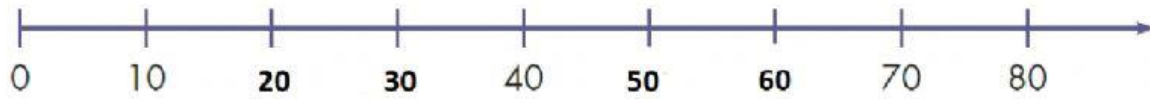
- 1.- Encender la cámara durante toda la evaluación.
- 2.- El estudiante no debe apagar el micrófono, cuando el docente le encienda.
- 3.- La evaluación debe realizar el estudiante, en el caso de que se detecte que un adulto está junto a él indicándole, se rebajará el puntaje.
- 4.- El estudiante debe escuchar al docente, luego leer las preguntas antes de contestar.
- 5.- El estudiante tiene un tiempo determinado para realizar cada pregunta de la evaluación.

"Ánimo, que tú puedes"



1. Escriba V si es verdadero o F si es falso:

La siguiente semirrecta numérica indica todas las decenas puras:





2. Escoja la opción correcta:

Las centenas puras son:

- A.- 100, 200, 300, 400, 5000, 60, 70, 800, 900
- B.- 100, 200, 300, 400, 500, 600, 700, 800, 900
- C.- 10, 20, 30, 40, 50, 60, 70, 80, 90





3. Lea y escriba en palabras los siguientes números (separe con coma las cantidades).

69 =

418 =





4. Escoja la opción correcta:

La escritura y composición del número 515 :

A.- Quinientos diez y cinco. $5d + 1d + 5u$

B.- Kinientos diez y cinco. $5c + 1d + 5u$

C.- Quinientos quince. $5c + 1d + 5u$





5. Escriba V si es verdadero o F si es falso:

La siguiente serie numérica es:



240	241	242	243	244	245	246	247	248	249
-----	-----	-----	-----	-----	-----	-----	-----	-----	-----





6. Observa el material concreto:

Escriba el número que representa el material base 10:





7. Observa el material concreto:

Escriba el número que representa cada ábaco:

