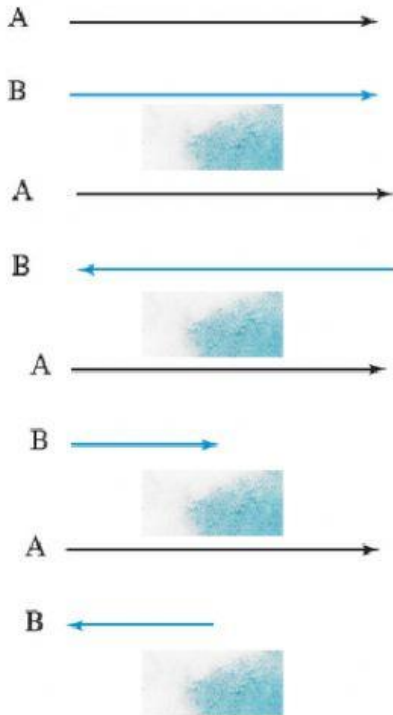


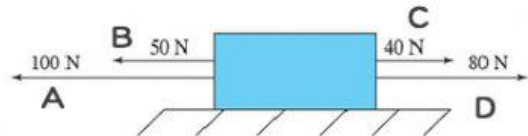
เวกเตอร์



เวกเตอร์คู่ใดที่เท่ากัน



จงหาเวกเตอร์ลัพธ์



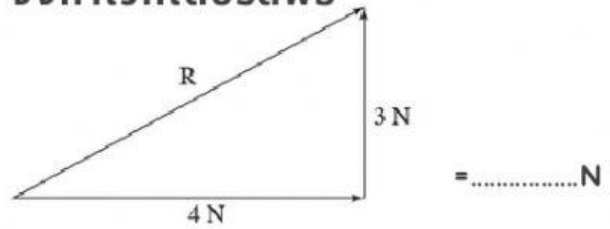
เวกเตอร์ลัพธ์ = (A + B) + (C + D)

R = (..... +.....) + (.....+.....)

R = +

R =N

จงหาเวกเตอร์ลัพธ์

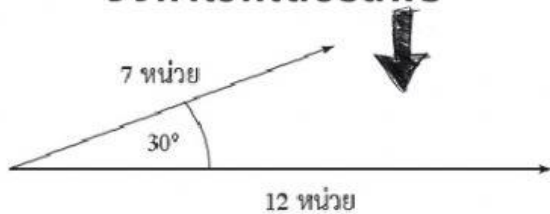


จงเติมคำตอบให้ถูกต้อง



	0°	30°	45°	60°	90°
cos					
sin					

จงหาเวกเตอร์ลัพธ์



=หน่วย

